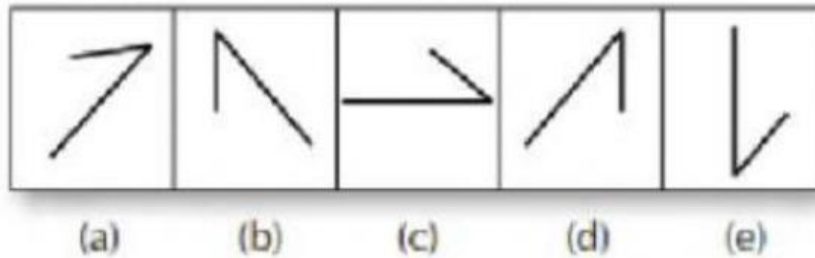


Ejercicios de LÓGICA

1. ¿Qué figura es diferente a las demás?



La letra



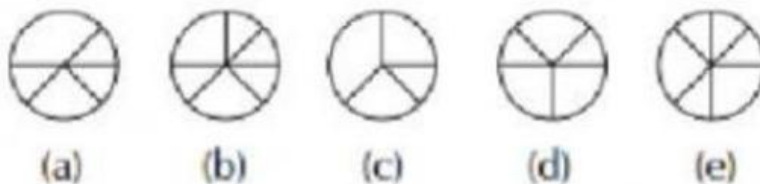
2. ¿Qué figura es diferente a las demás?



La letra



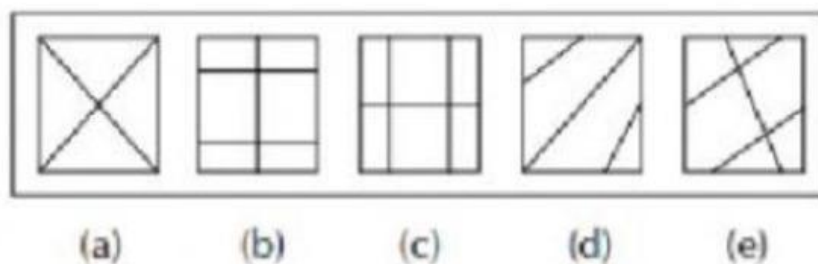
3. ¿Qué figura es diferente a las demás?



La letra



4. ¿Qué figura es diferente a las demás?

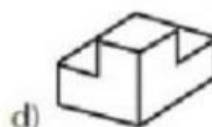
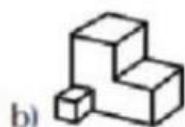
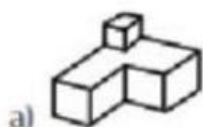


La letra



5. ¿Qué figura es diferente a las demás?

La letra




6. ¿Qué figura es diferente a las demás?

La letra



7. ¿Qué figura es diferente a las demás?



(a)

(b)

(c)

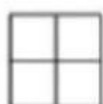
(d)

(e)

La letra



8. ¿Qué figura es diferente a las demás?



(a)

(b)

(c)

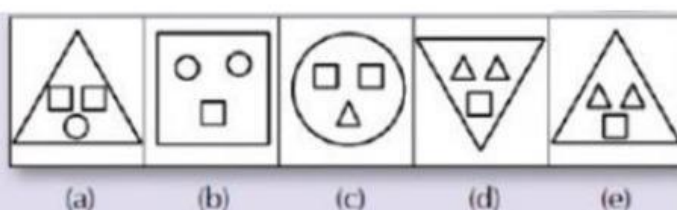
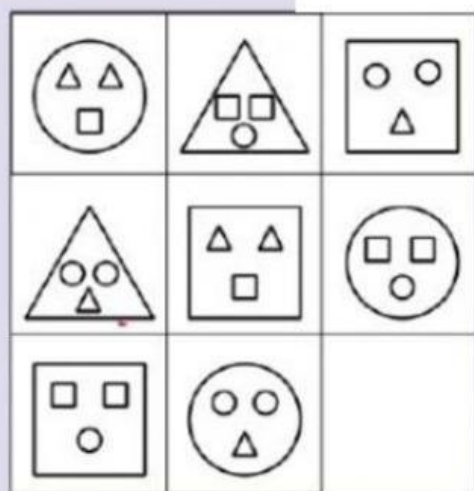
(d)

(e)

La letra



9. ¿Qué figura falta?



Resolución



Observa la disposición de las figuras.

→ La figura que falta es:

La letra

