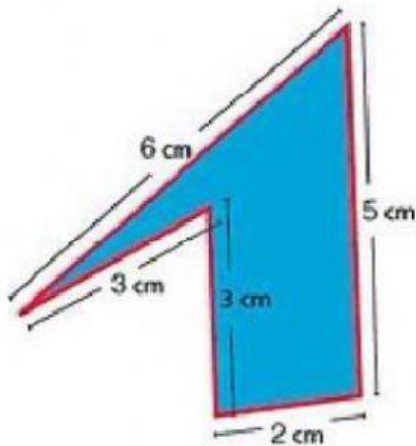


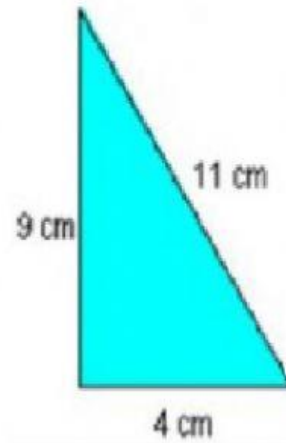
FICHA DE REPASO MATEMÁTICAS UNIDAD 7

Nombre: Fecha:

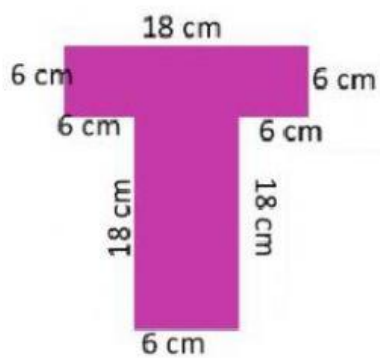
1. Calcula el perímetro de los siguientes polígonos.



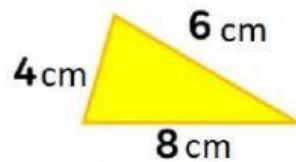
P=



P=

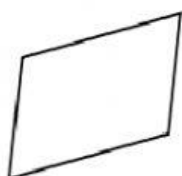
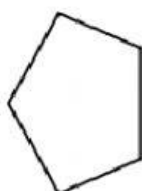
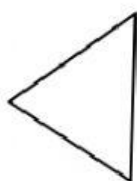
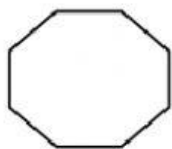


P=



P=

2. Nombre estos polígonos según su número de lados.



3. Nombra los elementos que se señalan:

