


TRIGONOMETRIA

dos decimals sense arrodonir!!!!

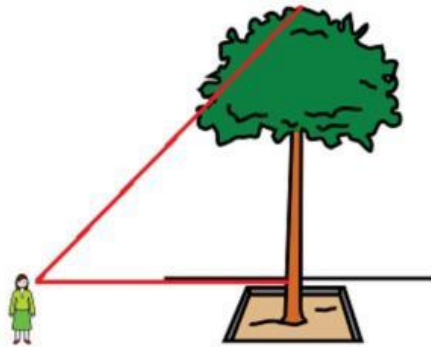
1.- Pots saber l'altura d'un triangle rectangle si sabem que la hipotenusa mesura 260 metres i la base en mesura 240?



alçada= m

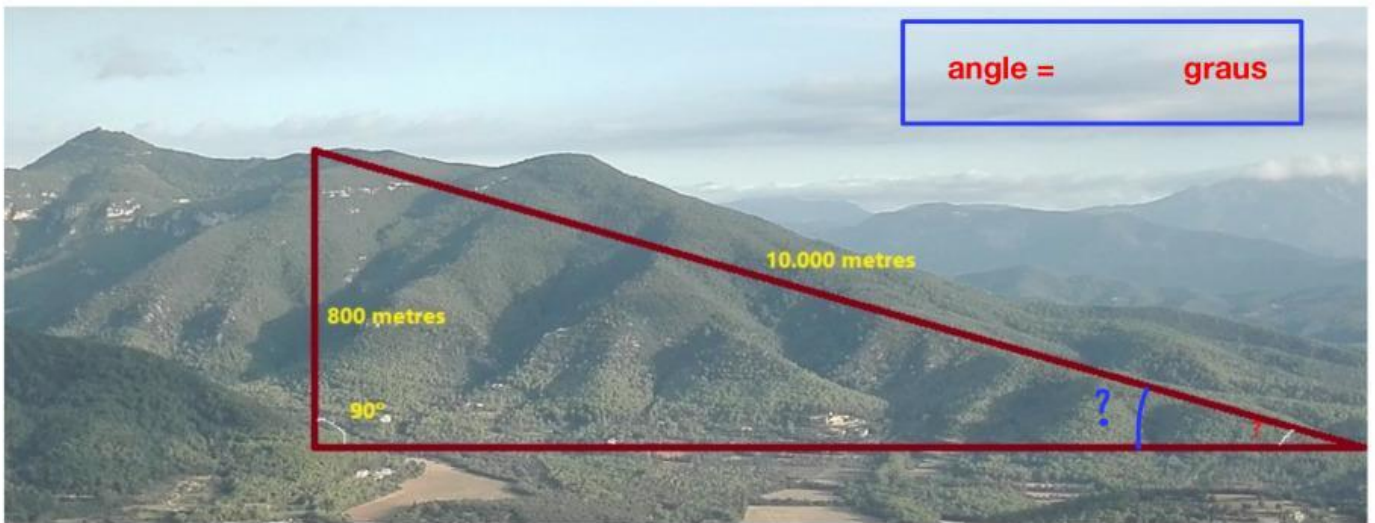
2.- Tenim un arbre que volem saber la seva altura. Per fer-ho ens allunyem del seu peu fins a que veiem el final de la copa amb un angle de 45° . Si la distància que ens trobem és de 14'23 metres. Pots dir quina és la seva altura, si l'alçada dels nostres ulls és de 1'68 metres?

alçada= m



3.- Si pugem a una muntanya amb un desnivell de 800 metres per una carretera de 10 kilòmetres. Quin és l'angle mig que té la carretera?

angle = graus



4.- Si estic a una distància de 42 metres d'un edifici i des del terra veig la part més alta amb un angle de 38° respecte l'horitzontal. Saps calcular l'altura de l'edifici?

alçada= m

