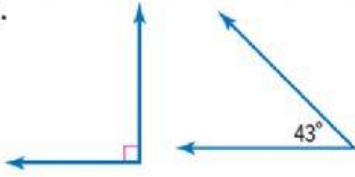




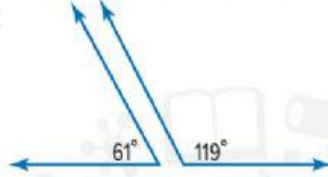
حدد ما إذا كان كل زوج من الزوايا يمثل زاويتين متتامتين أم متكاملتين أم غير ذلك. (المثالان 1 و 2)

1.



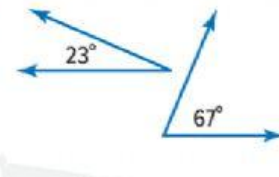
متتامتين أم متكاملتين أم غير ذلك

2.



متتامتين أم متكاملتين أم غير ذلك

3.



متتامتين أم متكاملتين أم غير ذلك



أسبوع الإمارات للابتكار

2016 نوفمبر 20-26

بدأ بيدا نتعافى

LIVEWORKSHEETS