

LEMBAR KERJA PESERTA DIDIK (LKPD)

Penyusun	:	ASTI
Instansi	:	SD N 04 MUNGKA
Tahun Penyusunan	:	Tahun 2022
Jenjang Sekolah	:	SD
Mata Pelajaran	:	Matematika (Volume 1)
Fase / Kelas	:	B / 4
Unit 5	:	Pembagian dengan Bilangan Satu Angka
Subunit 1	:	Pembagian Bersusun
Alokasi Waktu	:	1 x Pertemuan

NAMA KELOMPOK :

ANGGOTA KELOMPOK :

- 1.
- 2.
- 3.
- 4.
- 5.

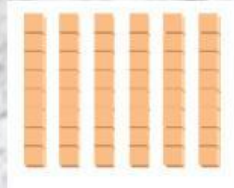
Petunjuk pengerjaan :

- a. **Pahami perintah soal terlebih dahulu kemudian kerjakan sesuai petunjuk yang diberikan!**
- b. **Jawablah pertanyaan dengan tepat dan benar!**

1. Ayo kerjakan soal dibawah ini dengan teliti!


a. **48 : 8 = 6**

6 × 8 =



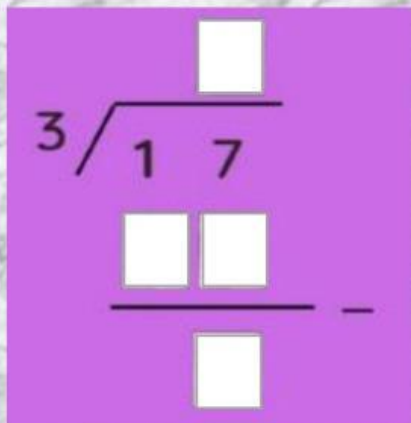
b. **48 : 9 = 5 sisa 3**

9 × 5 + 3 =



2. Kerjakan soal berikut dengan tepat!

- a. **Irwan memiliki permen 7 buah, irwan ingin membagi kepada 3 orang temannya. Berapa permen yang akan diterima oleh setiap anak dan berapa sisanya ?**



- b. Nabila diberi 36 coklat oleh pamannya. Nabila ingin membagi 36 coklat tersebut kepada 5 temannya. Berapa coklat yang akan diterima oleh setiap anak dan berapa sisanya ?**

$$\begin{array}{r} \square \\ 5 \overline{) 36} \\ \square \square \\ \hline \square \end{array}$$

- c. Sulaiman membeli 30 roti, sulaiman ingin membagi roti tersebut kepada 5 orang temannya. Berapa roti yang akan diterima oleh setiap anak dan berapa sisanya ?**

$$\begin{array}{r} \square \\ 5 \overline{) 30} \\ \square \square \\ \hline \square \end{array}$$

- 3. Peserta didik membuat kalimat matematika sesuai dengan pembagian berikut!**
- a. Zahira memiliki 26 kelereng, zahira ingin membagikan kelereng tersebut kepada 4 orang temannya. Berapa kelereng yang akan diterima oleh setiap anak dan berapa sisanya ?**

Kalimat matematika:

$$\square : \square = \square \text{ sisa } \square$$

- b. Zidan memiliki 23 apel, ia ingin membagikan apel tersebut kepada 5 temannya, Berapa apel yang akan diterima oleh setiap anak dan berapa sisanya ?**

$$\square : \square = \square \text{ sisa } \square$$

**SELAMAT
MENERJAKAN :>**