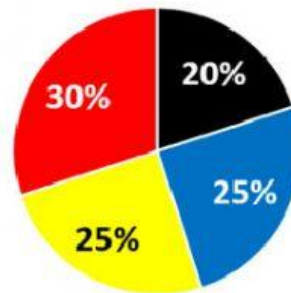
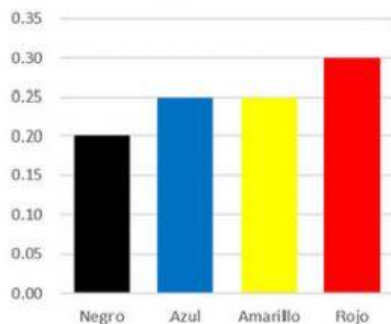
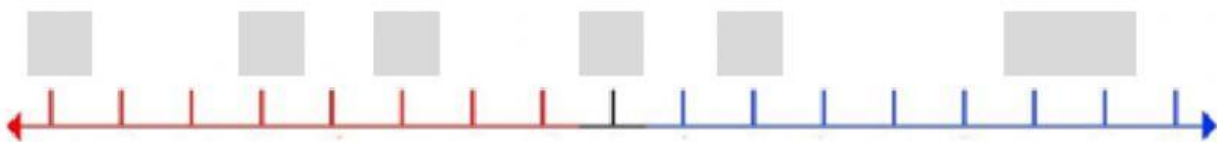


NÚMEROS EN LA RECTA NUMÉRICA

1. ¿Cuál de estas imágenes corresponde a una recta numérica? Seleccionala

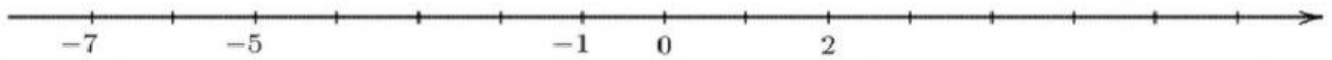


2. Coloca cada número real sobre su punto correspondiente en la recta?





3. Observa la siguiente figura, pon en cada espacio el símbolo "<" o el símbolo ">" según corresponda en cada caso.



A) -7 -5

D) -1 -5

B) -5 -7

E) -3 1

C) -5 -1

F) 1 -1

4. Seleccione la expresión que cumple con la relación de orden y comparación.

A) $-12 > 5$

C) $12 = 5$

B) $-12 > -5$

D) $-12 < 5$