



PENILAIAN AKHIR SEMESTER (PAS)
TAHUN AJARAN 2023-2024

Kelas/Semester	: 6 (Enam) / I (Satu)	Nama Siswa	:
Tema 5	: Wirausaha	Waktu	: 70 Menit
Hari/Tanggal	:	No. Absen	:

I Berilah tanda silang (X) pada huruf a, b, c atau d, di depan jawaban yang paling benar!

- Yang menunjukkan "berpikir global dan bertindak lokal" adalah
 - memilih membeli produk luar negeri daripada berusaha membuat sendiri
 - memanfaatkan teknologi informasi untuk mengenalkan budaya Indonesia
 - meniru semua budaya asing meskipun bertentangan dengan Pancasila
 - selalu membangga-banggakan produk yang dibeli di luar negeri
- Berikut ini tujuan dari gerakan "*Cinta Indonesia*", kecuali
 - menghadapi tantangan krisis ekonomi global
 - meningkatkan jumlah impor produk ke Indonesia
 - meningkatkan citra Indonesia di mata internasional
 - membangun kemandirian bangsa di bidang ekonomi
- Nama terang yang ditulis di bawah tanda tangan pada sebuah formulir memuat informasi berupa
 - nama orang yang mengisi formulir
 - nama orang tua pengisi formulir
 - nama pembuat formulir
 - nama wali yang mengisi formulir
- Informasi yang tercantum pada formulir pengiriman barang adalah
 - identitas penerima dan pengirim barang
 - identitas penerima dan pihak ekspedisi
 - identitas pengirim dan pihak ekspedisi
 - identitas pengirim dan pembuat barang
- Perhatikan ilustrasi berikut!

Namaku Rizki Ramdhan. Aku lahir di Panjalu tanggal 14 Agustus 2010. Aku tinggal di Jalan Candiaspal No. 24, Ciamis. Sekarang aku duduk di kelas VI SD Citeureup Mandiri 3. Aku seorang muslim.

KARTU PENDAFTARAN	
Anggota Perpustakaan Umum Pemerintah Kota Cimahi	
Yang bertanda tangan di bawah ini:	
Nama
Tempat & tanggal lahir
No. anggota *) (diisi petugas)
Unit kerja/sekolah
Agama
Alamat rumah
Mohon agar dicatat sebagai anggota Perpustakaan Umum Kota Cimahi.	
Selanjutnya kami sanggup menaati segala peraturan dan tata tertib yang berlaku di perpustakaan.	

Pengisian formulir pendaftaran yang tepat berdasarkan ilustrasi adalah

- Rizki Ramadhan; Panjalu, 14 Agustus 2010; Siswa kelas VI SDN Citeureup Mandiri 3; Islam; Jalan Candiaspal No. 24;
- Rizki Ramadhan; Jalan Candiaspal No. 24; Islam; Panjalu, 14 Agustus 2010;

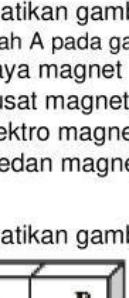
- c. Rizki Ramadhan; Siswa kelas VI SD; Panjalu, 14 Agustus 2010; Islam; Jalan Candiaspal No. 24

d. Rizki Ramadhan; Panjalu, 14 Agustus 2010; Islam; Siswa kelas VI SD; Jalan Candiaspal No. 24

6. Magnet yang dibuat dengan cara melilitkan kawat ke batang besi dan menghubungkannya dengan sumber listrik disebut

 - lilitan
 - induksi
 - gosokkan
 - elektromagnet

7. Perhatikan gambar berikut!




Kutub B menolak kutub C, sedangkan kutub D menarik kutub E. Dengan demikian, kutub B, C, E berturut-turut adalah


 - utara, utara, utara
 - utara, selatan, utara
 - selatan, selatan, utara
 - selatan, utara, selatan

8. Perhatikan gambar berikut!

Daerah A pada gambar di atas menunjukkan

 - gaya magnet
 - pusat magnet
 - elektro magnet
 - medan magnet

9. Perhatikan gambar berikut!




Gambar di atas menunjukkan tiga buah magnet batang. Jika C kutub utara, B dengan C tarik-menarik, serta D dengan E tolak-menolak, sehingga jenis kutub magnet pada A dan F adalah

 - A kutub utara, F kutub utara
 - A kutub utara, F kutub selatan
 - A kutub selatan, F kutub utara
 - A kutub selatan, F kutub selatan

10. Perhatikan gambar berikut!

Magnet pada gambar di atas berbentuk

 - ladang
 - batang
 - silinder
 - lingkaran

11. Kegiatan ekspor impor dapat mengalami gangguan besar jika terjadi

 - peperangan
 - hujan deras
 - pemilihan presiden
 - perubahan mata uang

12. Contoh dampak nyata dari globalisasi adalah

 - sifat pekerja keras
 - sifat konsumtif
 - sifat pemalas
 - sifat diktator

13. Globalisasi berasal dari kata

 - bola
 - dunia
 - globe
 - bola

14. Globalisasi dapat menyebabkan seseorang menjadi individualis, yaitu

 - tidak punya kepentingan
 - mementingkan orang lain
 - mementingkan kepentingan bersama
 - mementingkan kepentingan diri sendiri

15. Yang tidak termasuk ciri utama poster adalah

 - menarik perhatian pembaca
 - bahasa mudah dipahami
 - komposisi gambar dan tulisan sesuai
 - menggunakan gambar sketsa

16. Poster menggunakan kalimat yang
 a. panjang dan menarik
 b. jelas dan mudah diingat
 c. jelas dan menggunakan istilah asing
 d. unik dan sulit diingat
17. Fungsi poster yaitu menyampaikan pesan secara singkat menggunakan
 a. gambar
 b. suara
 c. kata
 d. kata dan gambar
18. Sebuah produk yang ditawarkan melalui media radio termasuk jenis reklame
 a. audio
 b. visual
 c. audiovisual
 d. sosial
19. Reklame yang digunakan pedagang bakso untuk menawarkan dagangannya termasuk reklame
 a. komersial
 b. non komersial
 c. hiburan
 d. peragaan
20. Semua kegiatan yang dilakukan oleh manusia untuk memenuhi kebutuhan hidupnya disebut kegiatan ...
 a. ekonomi
 b. kebutuhan
 c. keinginan
 d. transaksi
21. Berikut ini adalah contoh jenis usaha di bidang jasa, adalah
 a. rumah makan
 b. butik pakaian
 c. laundry
 d. apotik
22. Ketika kita mempunyai usaha, dan ternyata tetangga kita juga membuka usaha yang sama dengan kita. Maka sikap yang sebaiknya kita miliki adalah....
 a. pura-pura tidak tahu
 b. menghargai
 c. mengabaikan
 d. tidak peduli
23. Salah satu bentuk kerja sama antar negara di ASEAN yaitu kerja sama dalam bidang olahraga dengan diadakannya
 a. PON
 b. Asian Games
 c. Olimpiade
 d. Sea Games
24. Bu Citra adalah salah satu penduduk Citeureup yang mempunyai usaha kerajinan batik. Hasil produksi dari usahanya banyak yang dijual ke luar negeri. Dari keterangan tersebut, berarti Bu Citra termasuk seorang
 a. eksportable
 b. rentenir
 c. importir
 d. eksportir
25. Fungsi kemasan produk pada gambar tersebut adalah ...
 a. sebagai pelindung dan pengawet produk
 b. menurunkan efisiensi
 c. menurunkan daya tarik pembeli
 d. identitas penjual



II. Tariklah Jawabanya yang tepat di bawah ini dengan benar!

1. Sebutkan sikap yang sebaiknya tidak dimiliki wirausahawan!

2. Jelaskan formulir ujian sekolah, formulir pendaftaran, formulir pengiriman barang dan daftar riwayat hidup !

Formulir Ujian Sekolah

Formulir Pendaftaran

Formulir Pengiriman

Daftar Riwayat Hidup

3. Jelaskan yang dimaksud dengan benda nonmagnetis!

Benda non magnetis

4. Sebutkan bentuk kerja sama ASEAN di bidang IPTEK!

5. Sebutkan ciri-ciri reklame yang kamu ketahui!

MELAKUKAN PERSAINGAN YANG TIDAK BAIK

UNTUK UJIAN MASUK KE JENJANG PENDIDIKAN SELANJUTNYA

UNTUK MENDAFTARKAN DIRI MENGIKUTI SUATU KEGIATAN

UNTUK MENGIRIM BARANG KE SUATU TUJUAN

UNTUK MENERANGKAN DATA DIRI KEPADA ORANG LAIN

BENDA YANG TIDAK DAPAT DITARIK OLEH MAGNET

PENINGKATAN JUMLAH TENAGA AHLI YANG MEMILIKI KEAHLIAN DIBIDANG ILMU PENGETAHUAN

SLOGAN MUDAH DIINGAT