

1 Posłuchaj nagrania i zaznacz właściwą liczbę w każdej parze.

(... / 3 p.)



- | | |
|----------|-------|
| 1. A. 11 | B. 15 |
| 2. A. 12 | B. 14 |
| 3. A. 15 | B. 13 |

2 Posłuchaj nagrania i zaznacz właściwe obrazki.


(... / 4 p.)



A.




B.




C.



D.



E.



3 Popatrz, przeczytaj i połącz z ilustracjami.

(... / 4 p.)

1. You can buy water here.



A.

2. It's a market.



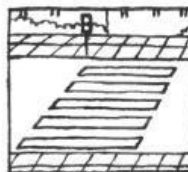
B.

3. Stop at the zebra crossing!



C.

4. Let's go to the shop.



D.

4 Popatrz na ilustrację i wpisz w tekst brakujące wyrazy.

(... / 3 p.)

teddy eleven shop

Look, it's a toy _____.

I can buy a _____ in this shop.

It's _____ pounds



5 Odczytaj zdania i ponumeruj je tak, aby powstała rozmowa.

(... / 3 p.)

1.

A.

Can I have a sandwich, please?

2.

B.

It's three pounds.

3.

C.

Here you are.

4.

D.

How much is it?

6 Wpisz odpowiednie słowa z ramki w wyznaczone miejsca.

(... / 3 p.)

eleven twelve thirteen fourteen fifteen

three + ten =

nine + six =

seven + four =

1 Posłuchaj nagrania i zaznacz właściwą liczbę w każdej parze.

(... / 3 p.)






- | | |
|----------|-------|
| 1. A. 13 | B. 11 |
| 2. A. 14 | B. 15 |
| 3. A. 12 | B. 15 |

2 Posłuchaj nagrania i zaznacz właściwe obrazki.

(... / 4 p.)



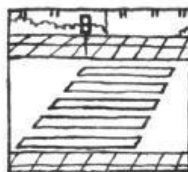
- A. B. C. D. E.



3 Popatrz, przeczytaj i połącz z ilustracjami.

(... / 4 p.)

1. You can go at the zebra crossing!



A.

2. It's a shop.



B.

3. Let's go to the market!



C.

4. You can buy water here.



D.

4 Popatrz na ilustrację i wpisz w tekst brakujące wyrazy.

(... / 3 p.)

banana pounds market

Look, it's a fruit _____.

You can buy a _____ at this market.

It's two _____.



5 Odczytaj zdania i ponumeruj je tak, aby powstała rozmowa.

(... / 3 p.)

1. A. It's two pounds.
2. B. Can I have a banana, please?
3. C. How much is it?
4. D. Here you are.

6 Wpisz odpowiednie słowa z ramki w wyznaczone miejsca.

(... / 3 p.)

eleven twelve thirteen fourteen fifteen

ten + five =

eight + three =

six + seven =
