

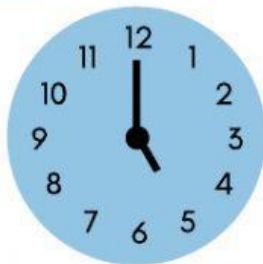
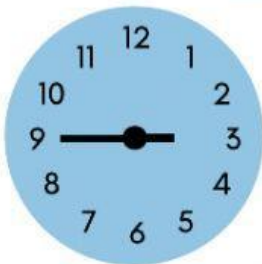


El Aula de Carla

# Calcula las horas

Fíjate en los relojes de cada nombre y calcula cuanto tiempo llevan trabajando las personas que hay abajo. Tienes que poner la hora de inicio y la hora en la que terminan, y después calcular el número total de horas.

Paula

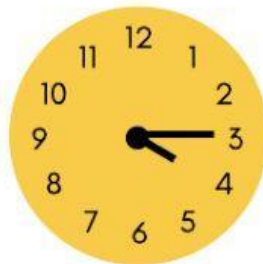


Inicio: \_\_\_\_\_

Final: \_\_\_\_\_

Tiempo total de trabajo: \_\_\_\_\_

Albert



Inicio: \_\_\_\_\_

Final: \_\_\_\_\_

Tiempo total de trabajo: \_\_\_\_\_

Dilan:

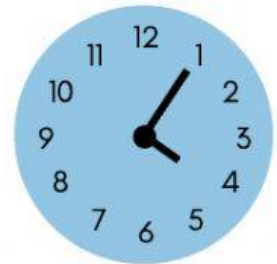
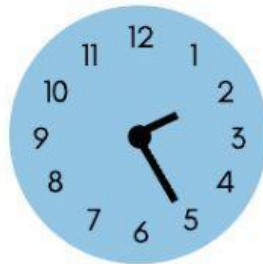


Inicio: \_\_\_\_\_

Final: \_\_\_\_\_

Tiempo total de trabajo: \_\_\_\_\_

Karen



Inicio: \_\_\_\_\_

Final: \_\_\_\_\_

Tiempo total de trabajo: \_\_\_\_\_