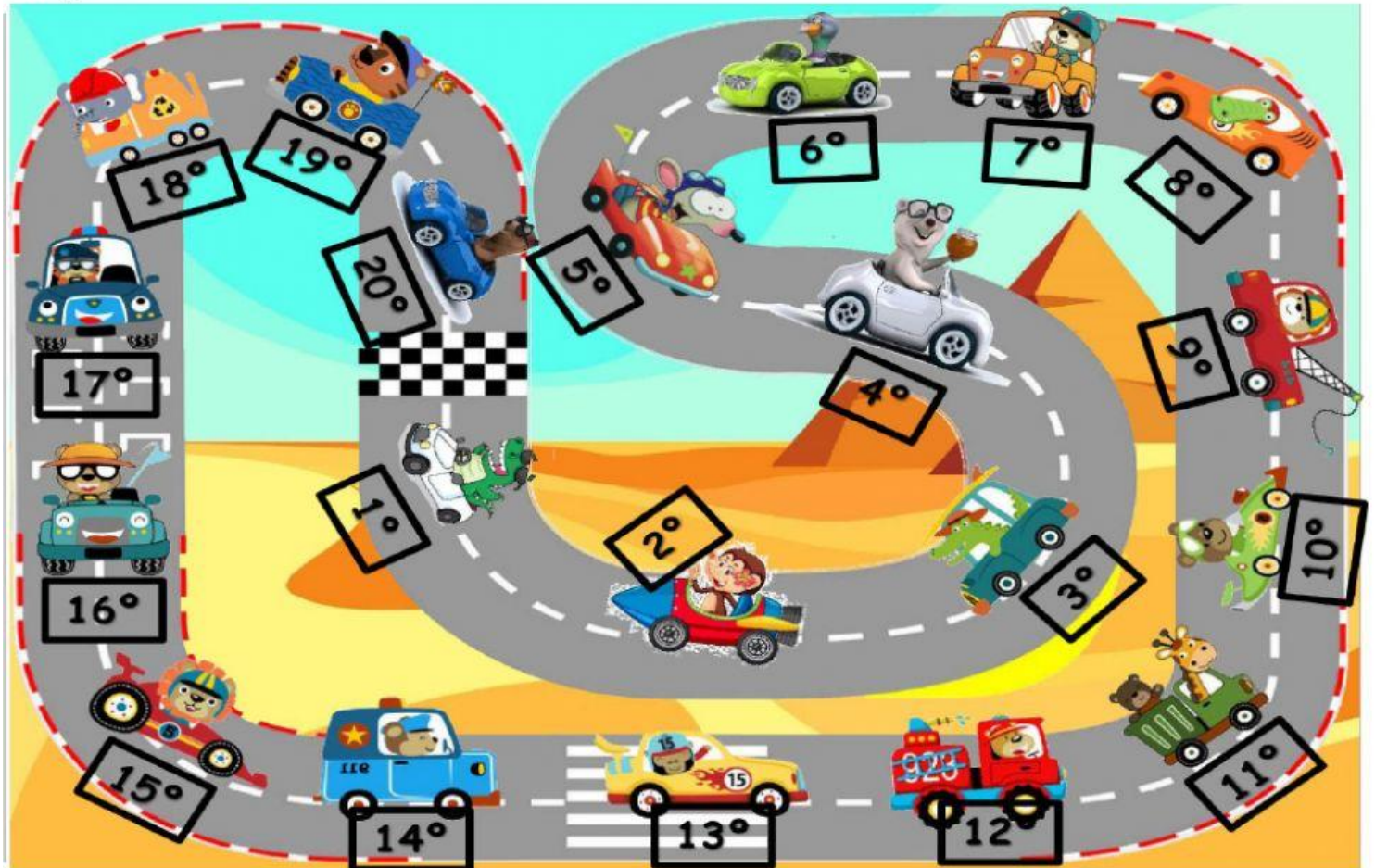


# NÚMEROS ORDINALES

1.1. ¡Bienvenidos a la primera carrera de animales por el desierto!

Fíjate bien en los coches.

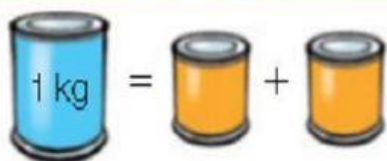


1.2. Escribe con letra la posición de los siguientes coches.



# MEDIDAS DE MAGNITUD O MASA

Fíjate en estas medidas y su equivalencia



1 kg = 2 medios kilos

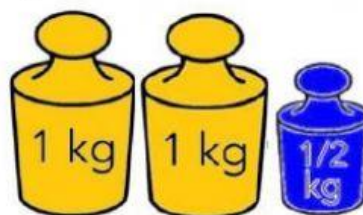


1 kg = 4 cuartos de kilo

2.1 Calcula cuánto crees que pesa y elige.



2.2 Calcula cuánto pesa y elige la respuesta.





Fíjate en este cuadro para ver las medidas de capacidad y sus equivalencias

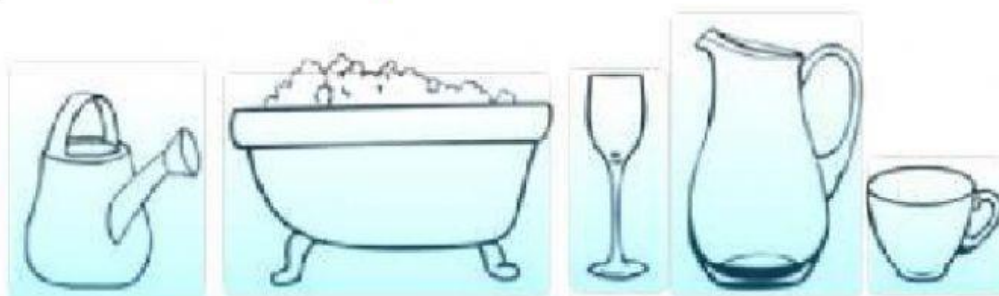


1 litro = 2 jarras de medio litro

1 litro = 4 vasos de un cuarto de litro

Medio litro = 2 vaso de un cuarto de litro

**3.1 Selecciona los 3 objetos que tengan mayor capacidad, que les quepa más de 1 litro.**



**3.2 Escribe del 1 al 4 ordenando de menor a mayor capacidad.**



# UNIDAD DE LONGITUD.










4.1 Pulsa sobre los instrumentos que miden la longitud.



4.1 Pulsa sobre 4 afirmaciones donde utilizamos las medidas de longitud.

- Para saber nuestra altura y la de los demás.
- Para calcular el agua que cabe en una garrafa.
- Para medir objetos, cosas, animales, vehículos, etc.
- Para saber cuántas horas o minutos dura algo.
- Para saber cuánto pesa un ingrediente o alimento.
- Para conocer la distancia entre dos lugares.
- Para saber cuánto ha crecido una planta o un árbol.
- Para conocer si algo está caliente o frío.

4.2 Ordena estos seres vivos de mayor a menor longitud o altura,

						
5 M	45 CM	2,2 M	1,6 M	21 M	10 CM	5,8 M
<input type="text"/>	<input type="text"/>	<input type="text"/>	<input type="text"/>	<input type="text"/>	<input type="text"/>	<input type="text"/>



5.1 Observo las imágenes y escribo seguro, posible o imposible.

Suceso.....

Sacar una bola roja



Suceso.....

Sacar una bola roja



Suceso.....

Sacar una bola roja



5.2 Si sacas sin mirar, un carrito de juguete al azar.  
¿Qué color tienes menos probabilidades de sacar?



Rpta.....

5.3. De qué color tienes más probabilidades de que te toque un gorro de cumpleaños.



Rpta.....