



PEMERINTAH KABUPATEN GARUT
DINAS PENDIDIKAN
YAYASAN PUTRA SOLVA UTAMA
SMP IT BAITURROHMAN GARUT



Email : smp_it_baiturrohman@yahoo.co.id | NSS : 202021137010 | NPSN : 69857727
Kp. Solokpandan 01/ 02 Ds. Sirnajaya Kec. Tarogong Kaler Kab. Garut Prov. Jawa Barat 44151 Kontak. 0811 2306 783

PENILAIAN SUMATIF AKHIR SUMATIF SEMESTER GANJIL 2023

Mata Pelajaran : Seni Budaya **Hari/Tanggal** : Rabu, 06 Desember 2023
Kelas : VII (Tujuh) **Waktu** : 90 menit

Nama :

I. Pilihlah jawaban yang paling tepat!

1. Aktivitas fisik yang dituangkan dalam bentuk goresan tangan pada media dua dimensi dan tiga dimensi dinamakan...
 - a. Memahat
 - b. Menggambar
 - c. Menorah
 - d. menggores
2. Sebelum menggambar biasanya proses yang paling awal harus dilakukan adalah...
 - a. finishing
 - b. membuat sketsa
 - c. mewarnai
 - d. menggores
3. Menggambar tidak hanya melibatkan aktivitas fisik semata tetapi juga mental. Aktivitas fisik berhubungan dengan keterampilan menggunakan peralatan menggambar sedangkan mental berhubungan dengan
 - A. Rasa, karsa, dan daya cipta untuk memenuhi kebutuhan hidupnya
 - B. Kemampuan mengekspresikan diri
 - C. Kemampuan untuk menciptakan karya
 - D. Keindahan
4. Alam semesta merupakan objek yang tidak akan pernah habis untuk digambar. Kekayaan flora, fauna, dan alam benda merupakan objek yang dapat digambar. Keindahan flora, fauna, dan alam benda merupakan sumber inspirasi dan eksplorasi dalam menggambar. Menggambar flora, fauna, dan alam benda dapat disamakan dengan menggambar
 - A. Tumbuhan, binatang, dan benda-benda di sekitar kita
 - B. Benda kubistis dan silindris



PEMERINTAH KABUPATEN GARUT
DINAS PENDIDIKAN
YAYASAN PUTRA SOLVA UTAMA
SMP IT BAITURROHMAN GARUT


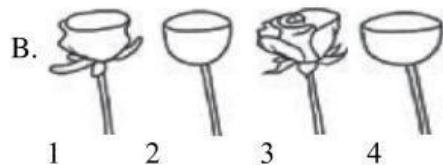




Email : smp_it_baiturrohman@yahoo.co.id | NSS : 202021137010 | NPSN : 69857727
Kp. Solokpandan 01/ 02 Ds. Sirnajaya Kec. Tarogong Kaler Kab. Garut Prov. Jawa Barat 44151 Kontak. 0811 2306 783

C. Tumbuhan, benda dan binatang

D. Binatang, tumbuhan dan benda geometris

5. Langkah-langkah menggambar bunga mawar yang baik, sesuai dengan urutannya, berikut ini adalah



6. Perhatikan hal-hal berikut ini :

- 1) Cahaya yang menyinari objek gambar dan akan membentuk bayangan.
- 2) Komposisi dalam meletakkan benda.
- 3) Proporsi bentuk benda yang akan digambar.
- 4) Penggunaan arsiran atau warna yang akan membentuk kesan bidang tiga dimensi.
- 5) Penggunaan latar belakang (background).


Langkah-langkah yang baik pada saat menggambar alam benda, adalah

A. 1 – 2 – 3 – 4 – 5

C. 3 – 1 – 2 – 4 – 5

B. 3 – 2 – 1 – 4 – 5

D. 1 – 2 – 4 – 5 – 3



Tahapan menggambar tersebut, adalah langkah-langkah yang baik untuk menggambar

A. Flora

C. Alam benda

B. Fauna

D. Geometris



PEMERINTAH KABUPATEN GARUT
DINAS PENDIDIKAN
YAYASAN PUTRA SOLVA UTAMA
SMP IT BAITURROHMAN GARUT



Email : smp_it_baiturrohman@yahoo.co.id | NSS : 202021137010 | NPSN : 69857727
Kp. Solokpandan 01/ 02 Ds. Sirnajaya Kec. Tarogong Kaler Kab. Garut Prov. Jawa Barat 44151 Kontak. 0811 2306 783

8. Ragam hias di Indonesia dipengaruhi oleh faktor lingkungan alam, flora dan fauna, serta budaya masing-masing daerah. Keinginan untuk menghias merupakan naluri atau insting manusia. Ragam hias sering disebut sebagai

A. Geometris
B. Flora

C. Fauna
D. Ornamen

9. Ragam hias pada gambar di samping termasuk jenis ...

A. Geometris
B. Figural
C. Fauna
D. Flora



10. Perhatikan gambar dibawah ini!



Gambar di atas merupakan contoh pola...

A. Fauna
B. Geometris
C. Figuratif
D. Organis

11. Perhatikan gambar dibawah ini !



Gambar di atas merupakan contoh pola...

a. Geometris
b. Fauna
c. Organis
d. Figurative



PEMERINTAH KABUPATEN GARUT
DINAS PENDIDIKAN
YAYASAN PUTRA SOLVA UTAMA
SMP IT BAITURROHMAN GARUT



Email : smp_it_baiturrohman@yahoo.co.id | NSS : 202021137010 | NPSN : 69857727
Kp. Solokpandan 01/ 02 Ds. Sirnajaya Kec. Tarogong Kaler Kab. Garut Prov. Jawa Barat 44151 Kontak. 0811 2306 783

12. Pola organis dapat ditemukan pada...

- Hewan dan bangun datar
- Pohon dan bangun datar
- Bangun datar
- Hewan, pohon, bunga

13. Pembuatab garis tebal, tipis, lurus dan lengkung dalam gambar bentuk-bentuk geometris menggunakan media...

14. Pasangkan kata-kata di bawah ini dengan gambar-gambar yang sesuai!

kanvas

pensil warna

cat air

kuas

krayon



15. Pola Geometris adalah pola pola yang berkaitan dengan geometris atau bangun datar contohnya adalah ...

16. Ceklis mana yang termasuk contoh pola geometris dalam kehidupan sehari hari adalah...

- pintu
- Taplak meja
- Lampu hias
- pohon




PEMERINTAH KABUPATEN GARUT
DINAS PENDIDIKAN
YAYASAN PUTRA SOLVA UTAMA
SMP IT BAITURROHMAN GARUT



Email : smp_it_baiturrohman@yahoo.co.id | NSS : 202021137010 | NPSN : 69857727
Kp. Solokpandan 01/ 02 Ds. Sirnajaya Kec. Tarogong Kaler Kab. Garut Prov. Jawa Barat 44151 Kontak. 0811 2306 783

17. perhatikan pola geometris berikut !

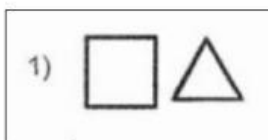


Ada berapakah jumlah garis lengkung...

18. Alat di samping merupakan salah satu alat yang digunakan untuk membatik tulis disebut...



19. Ceklis Manakah yang tepat untuk melengkapi pola geometris dibawah ini?



20. Gambar disamping merupakan termasuk pola...

