



PEMERINTAH KABUPATEN SINJAI

DINAS PENDIDIKAN

SD NEGERI No.190 CENNING KEC.SINJAI UTARA

Alamat: Jl.Gunung Latimojong No.110 Email: 40304707.sd190@gmail.com ☎92613



NASKAH ASESMEN AKHIR SUMATIF SEMESTER I TP 2023/2024

Muatan : IPAS Hari/Tanggal :
Kelas / Semester : IV/ I Waktu :
Jumlah Soal : 20 (Pilihan Ganda, memasangkan, betul salah, isian, essay)
Nama Siswa :

Petunjuk Umum:

- 1) Berdo'alah sebelum memulai mengerjakan soal!
- 2) Tulislah namamu di tempat yang di sediakan!
- 3) Bacalah dengan teliti soal yang kamu kerjakan!
- 4) Kerjakan terlebih dahulu soal-soal yang kamu anggap paling mudah!
- 5) Periksa kembali pekerjaanmu sebelum menyerahkan kepada Bapak/Ibu guru!

A. Pilihan Ganda

Pilihlah salah satu jawaban yang paling tepat!

1. Allah menciptakan bagian-bagian tubuh manusia dengan sempurna, yang berfungsi untuk beraktifitas. Bagian tubuh tersebut dikenal dengan panca indera. Salah satu panca indera untuk alat pendengaran adalah
 - a. Mata
 - b. Hidung
 - c. Telinga
 - d. Kulit
2. Aku berlibur selama 3 hari ke kampung nenekku di Sungaipua. Disana aku di ajak oleh nenek untuk melihat perkebunan apotik hidup di belakang rumah. Tempatnya sangat luas dan banyak jenis tumbuhan yang ditanam nenek. Salah satu contoh sumber daya alam yang dimanfaatkan sebagai obat adalah daun...
 - a. Kangkung
 - b. Sirih
 - c. Bayam
 - d. Seledri

3. Perhatikan gambar berikut!



Dari gambar tersebut, bentuk energi yang terjadi adalah

- a. Cahaya
- b. Bunyi
- c. Gerak
- d. Listrik

4. Perhatikan gambar berikut!



Gambar tersebut terjadi perubahan energi....

- a. Kimia menjadi energi gerak
- b. Listrik menjadi energi bunyi
- c. Panas menjadi energi cahaya
- d. Gerak menjadi energi bunyi

B. Menjodohkan

- 5. Fungsi dari panca indera hidung. •
- 6. Wujud zat udara •
- 7. Sumber energi panas terbesar bagi bumi. •
- 8. Cara membuat magnet statis •

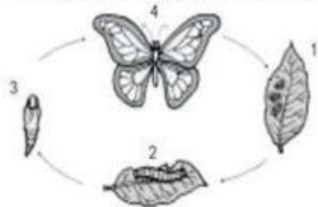
- Gaya gravitasi
- Perasa
- Matahari
- Menyublim
- Gaya gesek
- Energi kinetik
- Gas
- Angin

C. Berilah tanda ceklis (✓) pada pernyataan yang benar dan tanda (x) pada pernyataan yang salah

No	Pernyataan	Benar	Salah
9.	Batu bara termasuk sumber daya alam yang tidak dapat diperbarui		
10.	Peristiwa perubahan wujud dari gas menjadi padat disebut menyublim.		
11.	Paman ingin menarik logam dan memisahkan dari barang rongsokan lainnya. Alat yang dapat digunakan paman adalah magnet		
12.	Gaya dapat diartikan sebagai dorongan dan tarikan		

D. Isilah titi-titik dibawah ini dengan benar!

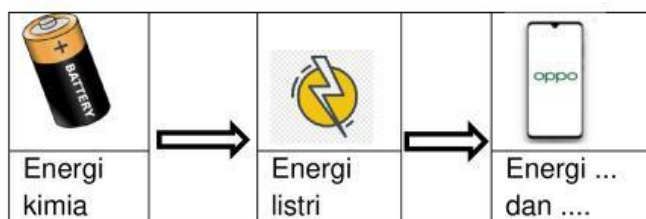
13. Perhatikan bagan metamorfosis kupu-kupu berikut!



Nomor 3 menunjukkan fase

14. Penggunaan sumber daya alam yang berlebihan akan mengakibatkan sumber daya alam tersebut menjadi

15. Perhatikan gambar berikut!



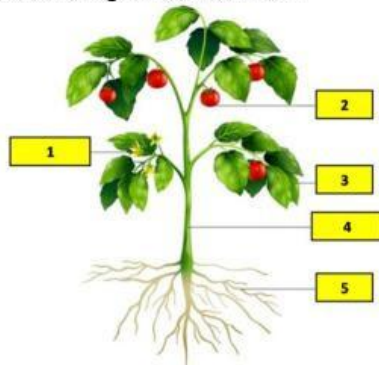
Perubahan energi yang terjadi pada HP adalah ... dan

16. Gaya yang di perlukan pada gambar saat mencangkul....

E. Essay

Jawablah pertanyaan-pertanyaan di bawah ini!

17. Perhatikan gambar berikut!



Jelaskan fungsi dari tubuh tumbuhan pada nomor 3, 4 dan 5!

Jawab:

.....

.....

.....

.....

.....

18. Tuliskan 3 sifat wujud zat cair!

Jawab:

.....

.....

.....

19. Tuliskan 3 bentuk perubahan wujud zat beserta contoh!

Jawab:

.....

.....

.....

.....

.....

20. Jelaskan 2 sifat magnet !

Jawab:

.....

.....

.....

SELAMAT MELAKSANAKAN UJIAN!