

Ayo Berlatih



Cocokkan lah soal dan jawaban di bawah ini!

$$48 + (21 \times 6)$$

125

$$16 \times 8 - 3$$

20

$$32 + 48 : 8$$

174

$$(96 : 8) + 27 - 19$$

146

$$(15 \times 9) + 63 - 7$$

38





LATIHAN SOAL

Jawablah Pertanyaan Berikut dengan tepat!


1. Pada saat bermain kempeng Intan memperoleh 6 tutup botol. Dalam metode perkalian merupakan penjumlahan pengulangan pada permainan kempeng. Tuliskan situasi yang di peroleh oleh intan



2. Dinda dan Kia bermain Kempeng bersama. Permainan pertama dimainkan oleh Dinda. Jika tahap pertama Dinda memperoleh sebanyak tutup botol berapapoin yang di dapat Dinda?





3. Pada saat bermain Kempeng Caca memperoleh sebanyak 5 tutup botol pada tahap pertama namun ketika lanjut pada tahap kedua Caca hanya memperoleh 2 tutup botol saja. Berapa poin yang didapat oleh Caca?



YUK CARI KATA



Carilah kata-kata yang berkaitan
dengan operasi Hitung



Pilihlah Jawaban berikut dengan tepat!

Winda bermain Kemprenng dan mendapatkan poin sebanyak $(10+10)+(10+10+10)$. Berapa tahap permainan yang dimainkan oleh Winda?



A 5 tahap

B 2 tahap

C 4 tahap

D 5 tahap

30 poin

A

Pada saat bermain Kemprenng Marsha mendapat 3 tutup botol pada tahap pertama dan pada tahap kedua hanya mendapat 1 botol. Berapa poin yang didapat Marsha?

20 poin

B

50 poin

C

40 poin

D



Jika Fira bermain Kemprenng hanya menghasilkan 240 poin. Jika skor yang perlu didapatkan adalah 400. Berapa poin lagi yang harus di peroleh oleh Fira Agar dapat poin yang maksimal?

A 160 poin

B 170 poin

C 180 poin

D 190 poin

MARI BERLATIH



1

Syifa bermain kempreng dan mendapat poin 70. Berapa tutup yang didapat oleh Syifa



2

Dengarkan baik-baik pertanyaan berikut!



3

perhatikan 3 pernyataan dibawah ini dan pilihlah pernyataan yang benar!

$$35 + 8 \times 20 : 4 - 25 = 55$$

$$(9 + 4) \times 5 - 18 : 6 = 62$$

$$19 - 9 + 6 \times 7 = 53$$



PROFIL PEMBUAT



NAMA : WINDA AGUSTIN

NIM : 2110206010

KELAS : 21062 Matematika 2

Dosen Pengampu
Harisman Nizar, Mpd
Mata Kuliah
Desain Media Komputer