

Mari Mengenal Bagian-Bagian

TUMBUHAN



Nama :

Tanggal :

BAGIAN-BAGIAN TUMBUHAN

Identifikasi bagian tumbuhan di bawah ini dengan menjiplak kata pada masing-masing gambar.



Nama :

Tanggal :

MARI BERHITUNG

Hitunglah jumlah bagian tumbuhan dan lingkari angka yang tepat.



5 4 6



3 4 2



5 6 3




4 3 7

Nama :

Tanggal :

MARI BERHITUNG


Hitung dan tuliskan jumlah bagian tumbuhan pada tempat yang telah disediakan.




+



=




+



=



+



=



+



=

Nama :

Tanggal :

MENCARI KATA

Ayo temukan kata yang berhubungan dengan bagian-bagian tumbuhan.

P	K	D	A	U	N	T	L	C	E	M	P
B	H	H	N	R	O	A	H	B	T	U	A
I	R	A	N	T	I	N	G	A	L	L	R
K	T	D	L	U	W	I	N	A	Y	I	B
E	E	T	C	M	N	Y	E	K	O	O	A
F	R	A	H	B	G	S	O	A	V	H	S
O	S	J	B	U	A	H	E	R	F	E	E
G	T	G	S	H	S	U	N	N	Y	I	B
G	O	O	L	A	T	A	D	D	R	L	I
R	A	B	U	N	G	A	D	Y	G	I	J
K	M	K	N	R	P	E	N	N	N	S	I
B	A	T	A	N	G	Y	A	R	E	G	Y

Nama :

Tanggal :

BAGIAN TUMBUHAN

Tentukanlah pasangan kata dan gambar dengan cara menghubungkan garis yang tepat.

Batang •



Akar •



Bunga •



Buah •



Ranting •



Daun •




Nama :

Tanggal :

BAGIAN TUMBUHAN

Tulislah bagian-bagian tumbuhan sesuai dengan posisinya masing-masing



daun

bunga

buah

batang

akar

ranting