



**PEMERINTAH KOTA BANDUNG
DINAS PENDIDIKAN
SEKOLAH DASAR NEGERI 212 HARAPAN**

NSS:101026001021 NPSN:20245941

Email : sdn212harapan@gmail.com

Jl. Pak Gatot VI KPAD Kel. Gegerkalong Kec. Sukasari Bandung Telp. (022) 2004661 Bandung 40152



ASESMEN SUMATIF AKHIR SEMESTER (ASAS)

TAHUN PELAJARAN 2023 -2024

TEMA 2

Nama :

Hari /Tanggal :

Kelas :

Mata Pelajaran : Pendidikan Kewarga Negara





1. BERIKAN TANDA (X) PADA JAWABAN YANG BENAR !

1. Fiona, Jaka, dan Hanif berasal dari wilayah yang berbeda. Meskipun dari daerah yang berbeda mereka harus saling
 - a. Menghormati
 - b. Bersaing
 - c. Membedakan
 - d. Menjelek-jelekan
2. Salah satu cara menciptakan persatuan dan kesatuan di sekolah adalah
 - a. membaca buku di perpustakaan
 - b. piket kelas
 - c. membantu teman mengerjakan ulangan
 - d. Diam saja
3. Dona pandai mengerjakan soal Matematika, Febri pandai dalam pelajaran Bahasa Indonesia, dan Jehan pandai dalam Agama. Cara menyikapi hal tersebut adalah
 - a. tidak malu bertanya kepada mereka ketika ada pelajaran yang belum dipahami
 - b. kita belajar hal lain supaya tidak menjadi saingan mereka
 - c. mengajak mereka kerjasama saat ulangan
 - d. Bersikap sombong dan cuek saja
4. Perhatikan pernyataan berikut!
 - (1) Beribadah sesuai keyakinan.
 - (2) Menghargai perbedaan.
 - (3) Melakukan musyawarah.
 - (4) Membantu korban bencana alam.

Pengamalan Sila Kedua Pancasila ditunjukkan oleh nomor

 - a. (1)
 - b. (2)

- c. (3)
 - d. (4)
5. Kewajiban dan hak dalam keluarga tergantung ... dalam keluarga.
- a. harta
 - b. jumlah
 - c. peran
 - d. Pekerjaan
6. Lambang sila kelima Pancasila adalah

- a. 
- b. 
- c. 
- d. 

7. Para warga desa Tambakromo semangat gotong royong membangun jembatan. Kegiatan gotong royong tersebut bisa membuat warga menjadi
- a. Saling bersaing
 - b. Bermusuhan
 - c. Semakin rukun
 - d. Saling bertengkar
8. Dalam aturan lalu lintas pengguna kendaraan bermotor wajib memiliki
- a. KK
 - b. Kartu pelajar
 - c. KTP
 - d. SIM
9. berikut ini yang tidak termasuk suku-suku yang ada di Indonesia adalah....
- a. Suku Batak, dan suku Sunda
 - b. Suku Indian dan suku Aborigin
 - c. Suku Toraja dan suku Madura
 - d. Suku Asmat dan suku Minangkabau

10. Perhatikan gambar berikut!



Gambar tersebut menunjukkan petugas

- a. Pelatih sirkus
- b. Menjual tiket
- c. Pegawai sirkus
- d. Menonton sirkus

