

# LEMBAR KERJA PESERTA DIDIK (LKPD)

Nama:

Kelas:

Kelompok :

Tujuan :

1. Dengan mengerjakan LKPD peserta didik mampu mengukur panjang benda menggunakan penggaris (m dan cm) dengan tepat dan benar.
2. Dengan arahan guru peserta didik mampu Mengukur tinggi badan 5 orang temannya dengan menggunakan satuan baku cm dengan tepat

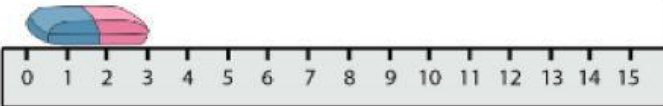
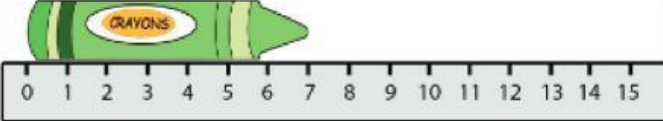
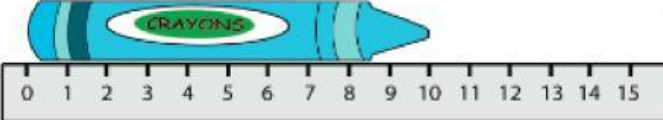
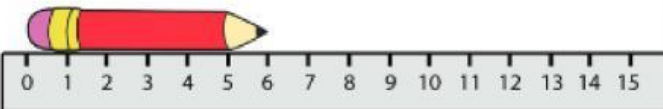


Bacalah dengan seksama petunjuk pengerjaan LKPD DIBAWAH ini

1. Siapkan peralatan menulismu
2. Dengarkan intruksi gurumu sebelum mengerjakan LKPD
3. Simaklah kembali video pembelajaran mengenai cara mengukur panjang benda menggunakan penggaris

### Kegiatan 1

Tentukan ukuran benda dibawah ini

	<input type="text"/>
	<input type="text"/>
	<input type="text"/>
	<input type="text"/>

### Kegiatan 2

1. Ukurlah tinggi badan 5 orang teman mu di kelas !
2. Tuliskan hasilnya pada tabel dibawah ini ! Gunakan satuan cm dalam pengukuran mu

No	Nama Teman	Tinggi ( cm)
1.		
2.		
3.		
4.		
5.		

Urutkanlah hasil pengukuranmu ! Mulai dari yang terpendek sampai yang tertinggi