



PEMERINTAH KABUPATEN LUWU TIMUR

DINAS PENDIDIKAN

SDN 264 WAWONDULA

Alamat : Jl. Gunung Agung No. 01, Wawondula Kecamatan Towuti

SOAL PENILAIAN HARIAN

Tema / Subtema : 8. Lingkungan Sahabat Kita / 1

Kelas/Semester : V / 2

Tahun Pelajaran : 2020 /2021

Nama Siswa : .....

Nomor Absen : .....

1.



Keragaman yang terlihat pada gambar di atas ialah dalam hal .....

2. Bacalah percakapan dibawah ini.

Yanto : Apa kabar kalian berdua nih? Semua baik-baik saja kan?

Budi : ya, saya sangat baik

Andi : Ya, saya juga baik-baik saja Yan.

Andi : Oya Yan, apa sih aktivitas kamu dihari Jum'at? Mengapa kamu jarang keluar ketika hari Jum'at, bila keluar pun menjelang sore hari?

Budi : Iya itu Yan, kenapa memang?

Yanto : Aku ketika hari Jum'at pagi sampai siang memang dirumah saja, karena pada jam 11 aku ke Masjid.

Andi : Ngapain Yan, terus kenapa harus jam 11?

Yanto : Hari Jum'at itu merupakan hari dimana semua umat Islam menjalankan salah satu perintah Allah untuk menjalankan ibadah dihari itu. Dan ibadah dihari Jum'at biasanya akan dimulai pada jam 11.

Budi : Oh.. begitu ya Yan.

Andi : Mohon maaf Yan, memang kamu benar-benar yakin dengan ajaran Islam itu?

Yanto : Ya, dari hati yang bertabur iman saya sangat yakin bahwa Islam adalah agama yang benar dan yang di ridhoi. Tapi, bagaimanapun juga kebebasan beragama itu dimiliki oleh siapa saja yang tinggal di negara ini. Jadi, aku tetap menghargai kalian meskipun kalian berbeda keyakinan dengan aku.

Budi : Memang sudah seharusnya seperti itu sih Yan..

Yanto : Ya, setiap orang punya keyakinan masing-masing dan mereka sendiri nantinya yang akan mempertanggung jawabkannya.

Andi : Benar, meskipun kita berbeda keyakinan tapi kita tetap harus saling menghargai apa yang sudah menjadi keyakinan orang lain.

Budi : teman-teman, sepertinya sudah mau malam nih.. mari kita pulang.

Andi & Yanto : Ok, mari kita pulang.

Dialog menunjukkan sikap .....dalam keragaman sosial budaya di Indonesia

3.




Peristiwa yang terjadi pada gambar di atas ialah .....

4.



1



2



3



4

Urutan gambar yang benar yaitu .....

5.



Berdasarkan gambar di atas, salah satu manfaat air bagi kehidupan manusia yaitu .....

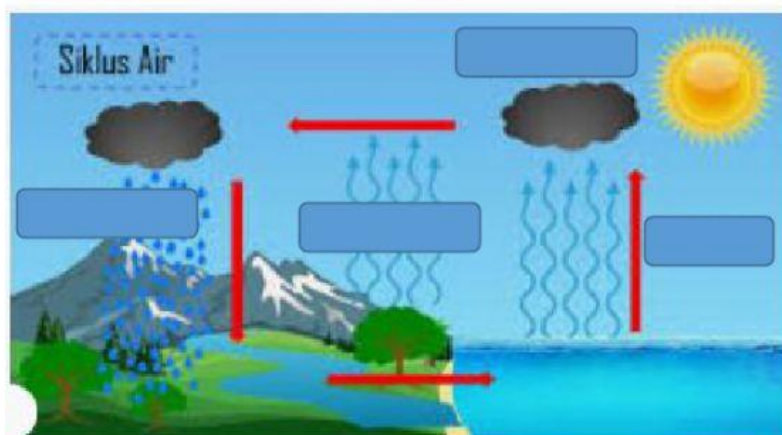
6.



Berdasarkan gambar di atas, salah satu manfaat air bagi kehidupan hewan yaitu .....

7. Air laut mengalami proses evaporasi dan berubah menjadi uap air akibat adanya panas matahari. Uap air akan mengalami kondensasi dan membentuk awan. Awan yang terbentuk akan menjadi hujan di permukaan laut.

Lengkapilah gambar siklus air dibawah ini



8.



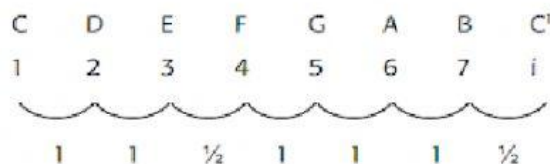
Usaha ulat sutra berasal dari bidang .....

9. Industri adalah kegiatan memproses atau mengolah barang dengan menggunakan sarana dan peralatan, misalnya mesin. Ada industri yang mengolah bahan baku atau mentah menjadi produk olahan. Ada industri yang hanya mengolah bahan mentah menjadi bahan setengah jadi. Ada pula industri yang mengolah bahan setengah jadi menjadi bahan jadi. Ada industri besar dan industri kecil. Industri besar menggunakan peralatan, modal, dan tenaga kerja dalam jumlah besar. Industri kecil menggunakan peralatan, modal, dan tenaga kerja dalam jumlah lebih kecil. Contoh industri kecil, antara lain perajin mebel, pembuatan tahu atau tempe, dan perajin keramik. Contoh industri besar antara lain industri baja, industri mobil, dan industri tekstil.

Bila kita hendak mendirikan industri besar, maka kita juga akan menggunakan

.....  
dalam jumlah yang besar pula

10.



Tangga nada tersebut merupakan tangga nada diatonis .....