

KELAS II

Lembar Kerja Peserta Didik

PENJUMLAHAN DAN PENGURANGAN



$$1 + 1 = 2$$

Nama :

kelas :

Mata Pelajaran :

Hari/Tanggal :

Capaian Pembelajaran

Peserta didik dapat melakukan operasi penjumlahan dan pengurangan menggunakan benda-benda konkret yang banyaknya sampai 20.

Tujuan Pengerjaan LKPD

Peserta didik mampu menuliskan kalimat matematika dan mengungkapkan proses penjumlahan yang melibatkan dua bilangan yang terdiri atas dua angka menggunakan permasalahan kontekstual.




Petunjuk Pengerjaan LKPD

- Peserta didik berdo'a sebelum mengerjakan LKPD
- Bacalah semua petunjuk yang ada dengan jelas
- Peserta didik mengerjakan LKPD secara individu.
- Peserta didik menuliskan kalimat matematika sesuai masalah yang ada
- Peserta didik yang telah menyelesaikan LKPD, jangan lupa mengumpulkannya kepada guru.



LKPD 1



=



+






19

=

.... puluhan + satuan

Dibeli lagi

Menjadi



.....

+

.....

=

.....

LKPD 2

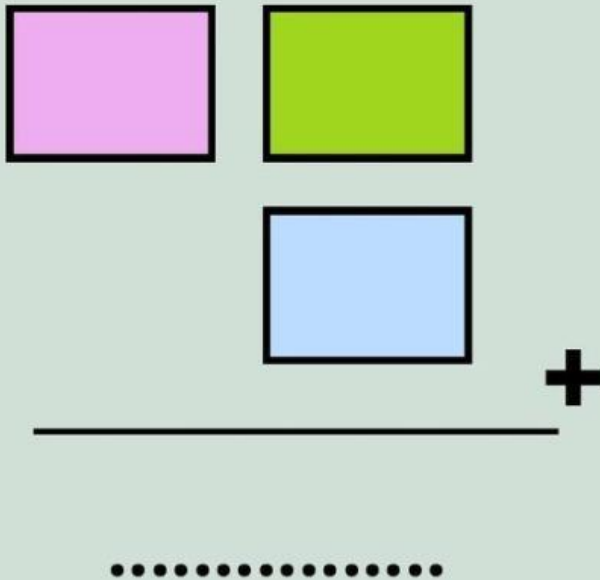
Nama :

Kelas :

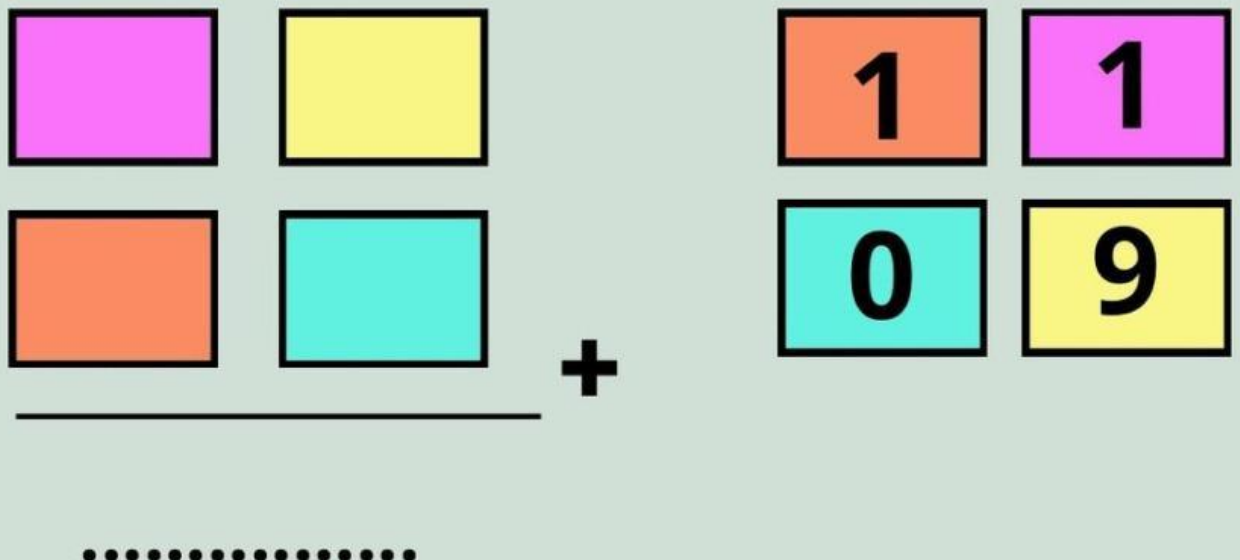
Petunjuk:

1. Isilah nama dan kelas pada data di atas
2. Ambil kartu yang ada dilayar sesuai dengan warna yang ada, kemudian tempelkan kartu tersebut sesuai warnanya
3. setelah menempelkan, jawablah titik titik tersebut
4. Kerjakan dengan waktu 10 menit

①



②



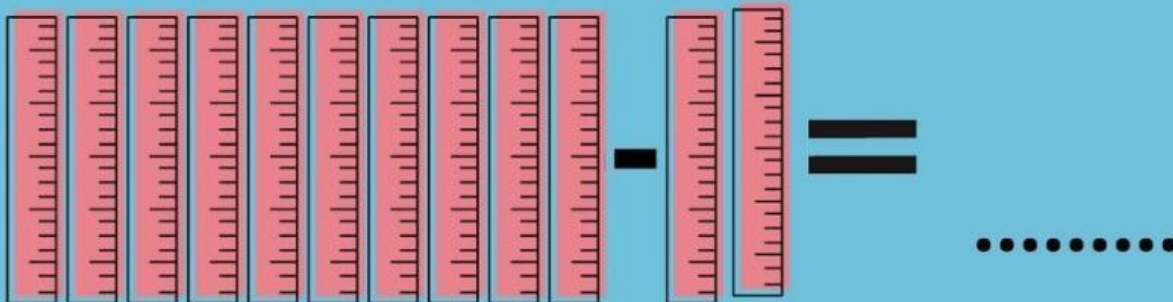
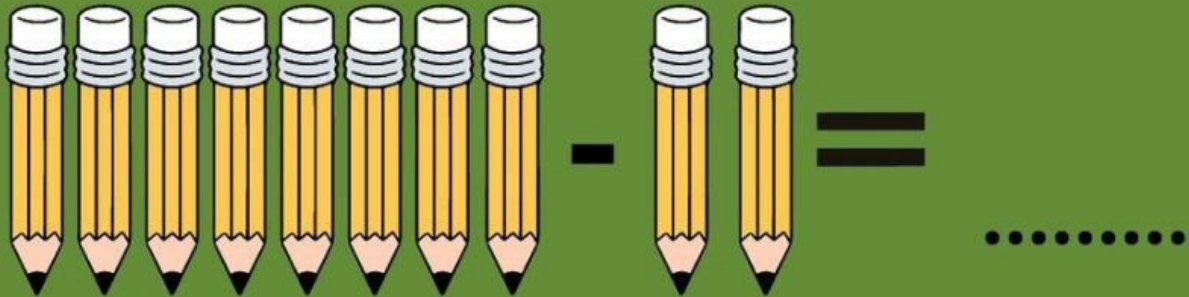

LKPD 3

Nama :

Kelas :

Petunjuk:

1. Isilah nama dan kelas pada data di atas
2. Tulislah hasil pengurangan benda dibawah ini dengan benar
3. Kerjakan soal dibawah ini dengan waktu 10 menit



LKPD 4

Nama :

Kelas :

Petunjuk:

1. Isilah nama dan kelas pada data di atas
2. letakkan jawaban hasil pengurangan soal dibawah ini sesuai soal yang telah ada
3. Kerjakan soal dibawah ini dengan waktu 15 menit

19

-

9

=

....

10

30

-

19

=

....

1

18

-

17

=

....

11

25

-

10

=

....

21

40

-

19

=

....

15