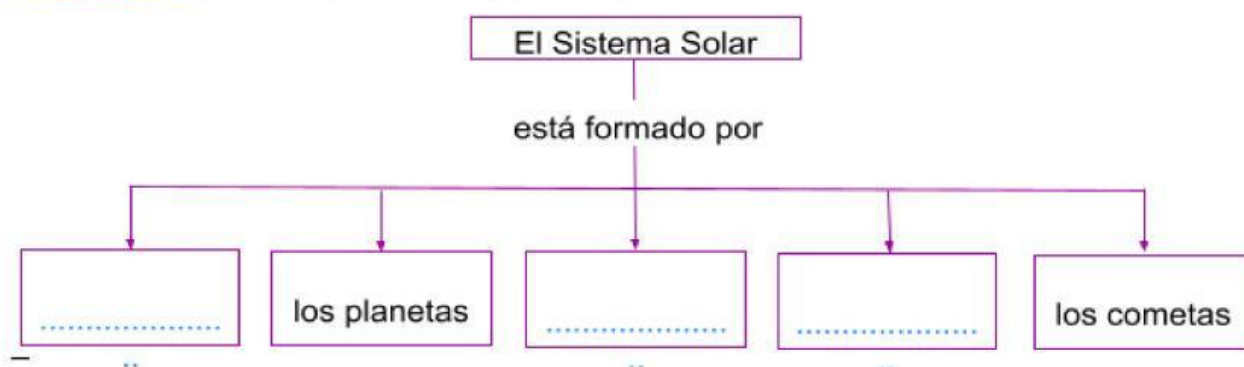
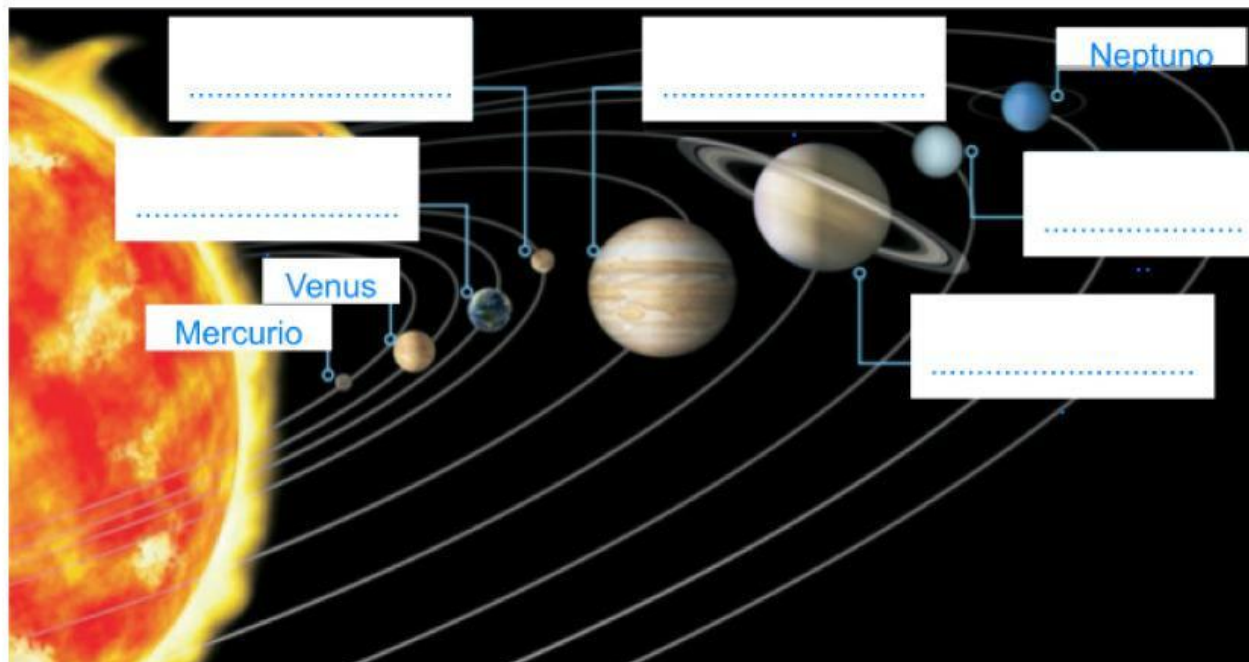


Nombre:

Curso:

1 Completa:



- ¿Cuál es el centro de nuestro Sistema Solar?
- ¿Qué es el Sol? ☐ Un planeta ☐ Una estrella ☐ Un satélite

2 Relaciona cada capa de la Tierra con su definición.

Geosfera

- Conjunto de aguas del planeta.

Atmósfera

- Capa de aire que rodea la Tierra.

Hidrosfera

- Capa sólida del planeta que forma los continentes y las islas.

3 Observa las ilustraciones y completa:

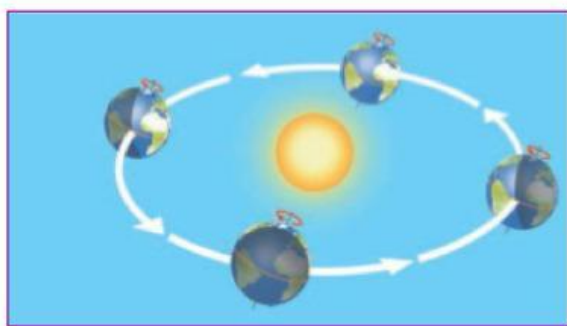
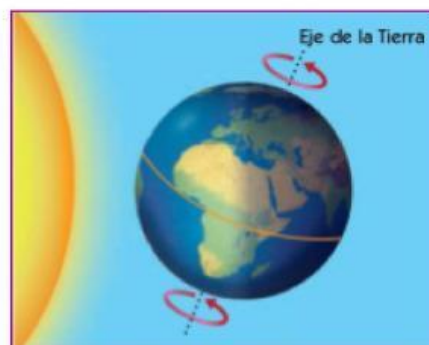
– ¿Cómo se llama este movimiento?

– Es el movimiento que hace la Tierra...

☐ sobre su mismo eje. ☐ alrededor del Sol.

– Este movimiento dura

– Y da lugar a



– ¿Cómo se llama este movimiento?

– Es el movimiento que hace la Tierra...

☐ sobre su mismo eje. ☐ alrededor del Sol.

– Este movimiento dura

– Y da lugar a

4 Señala las respuestas correctas:

A) La Luna es:

- Un planeta
- Un satélite artificial
- Un satélite natural
- Un meteorito

B) ¿Qué movimientos realiza?

- Ninguno
- Uno de rotación y otro de giro
- Tres movimientos
- Uno de rotación y otro de traslación

5 Coloca las etiquetas en fase de la Luna representada en cada imagen:

luna llena

luna nueva

cuarto
menguante

cuarto
creciente



6 ¿Cómo se representa la Tierra? Une los nombres con su definición.

Planisferio

Esfera que representa la Tierra

Plano

Puede ser físico, político o temático

Globo terráqueo

Representa a la Tierra en una superficie plana.

Mapa

Representa un lugar como ciudades, pueblos...

7 En el planisferio se puede ver todos los continentes de la Tierra a la vez. ¿Cuáles son?

- A Asia – América – África – Oceanía – Pacífico – Antártida
- B Asia – América – África – Europa – Atlántico – Oceanía
- C Europa – África – América – Asia – Oceanía – Antártida
- D América – Asia – Europa – Pacífico – África – Oceanía

8 Completa con el nombre de los continentes .



América

Europa

Africa

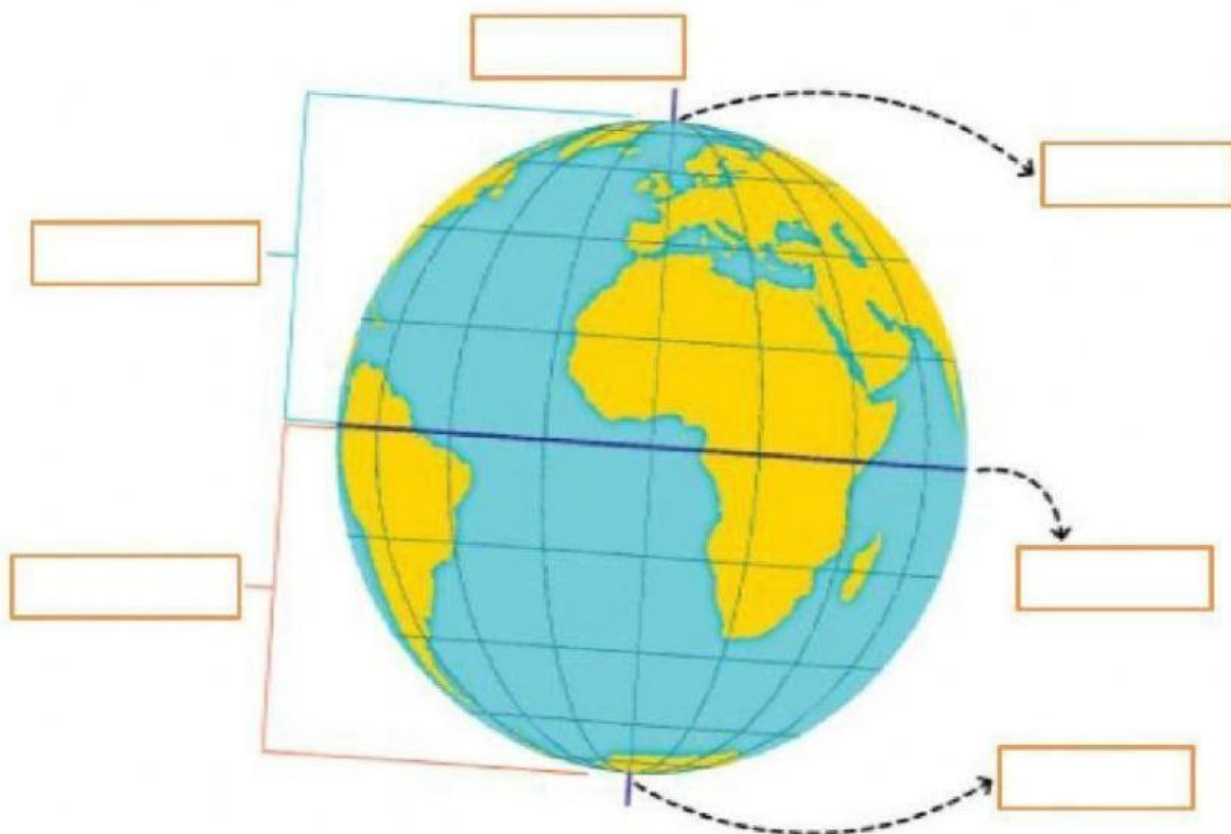
Asia

Oceanía

Antártida

9 Une cada nombre con el lugar correspondiente.

ecuador – eje transversal – polo norte – polo sur – hemisferio norte – hemisferio sur



10 Coloca los cuatro puntos cardinales en la rosa de los vientos.

