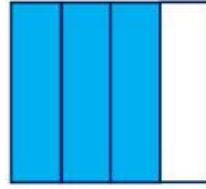
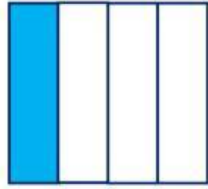
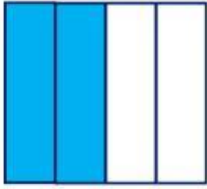
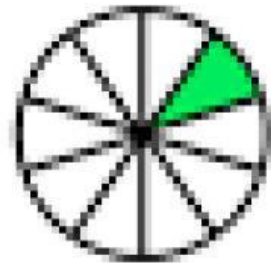
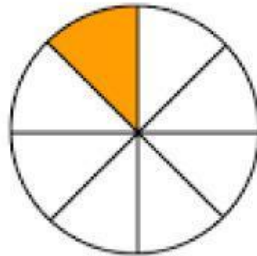


Вивчаємо частини цілого

1. У якій фігурі зафарбовано її чверть? Познач правильну, на твою думку, відповідь.



2. Познач дробом зафарбовану частину кожної фігури.



3. Яку частину шляху подолав черв'ячок? Запиши відповідний дріб.



4. Який із дробів є найбільшим? Познач правильну, на твою думку, відповідь.

А $\frac{1}{10}$

Б $\frac{1}{8}$

В $\frac{1}{2}$

5. Знайди:

1) $\frac{1}{3}$ від 27

2) ціле, якщо його $\frac{1}{7}$ становить 9

6. Розв'яжи задачу.

Гарбуз розрізали на три рівні частини. Маса однієї частини становить 3 кг. Якою була маса цілого гарбуза?



В	і	д	п	о	в	і	д	ь	:										

7. Розв'яжи задачу.

Кілограм пончиків коштував 90 грн. Під час акції ціна за кілограм зменшилася на $\frac{1}{9}$. На скільки гривень став

дешевшим кілограм пончиків? Якою стала його ціна?

1)																		
2)																		
В	и	р	а	з	:														
В	і	д	п	о	в	і	д	ь	:										

Оціни свою роботу

