





- 1.- Escribe los números en las casillas que faltan.
- 2.- Arrastra las paletas en los espacios que faltan.
- 3.- Contesta las preguntas.

	Cantidad que tenía	Paletas preparadas	Ahora tiene
Paletería Pepe	23		
Paletería Toño	36		
Paletería Popeye			45
Paletería Pingüino			32
Paletería Memín	39		49
Paletería La nevada	24		32



¿Cuántas paletas preparó la paletería Memín? \_\_\_\_\_

¿Cuántas paletas preparó la paletería La Nevada? \_\_\_\_\_