

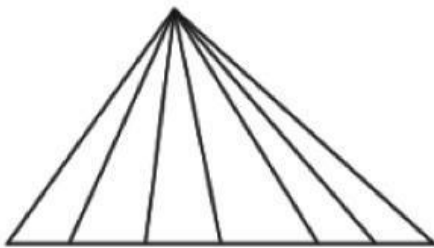
Nombre y Apellido: _____

Ejercicios de Conteo de Triángulos

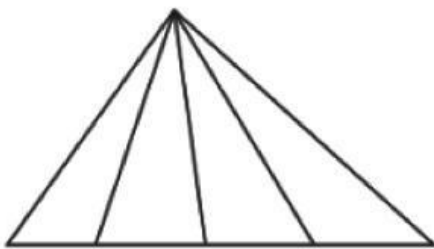
¡Resolvemos!

1. Resolvemos lo que indica cada problema (10 pts.)

1. ¿Cuántos triángulos hay como máximo en la siguiente figura?

**Resolución:**

2. ¿Cuántos triángulos hay como máximo en la siguiente figura?

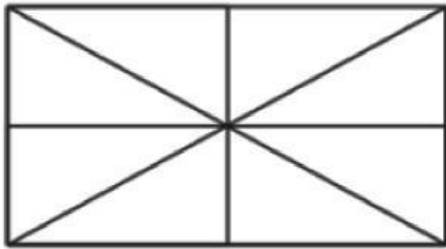
**Resolución:**

3. Halla el número total de triángulos en:

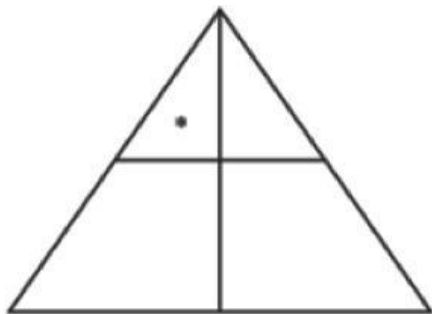
**Resolución:**

Nombre y Apellido: _____

4. Determina el número total de triángulos en:

Resolución:

5. ¿Cuántos triángulos tienen un (*) asterisco en su interior?

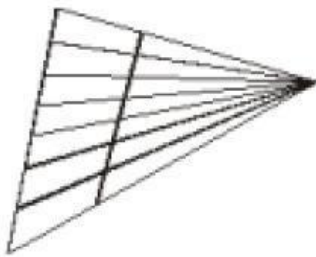
Resolución:

Nombre y Apellido: _____

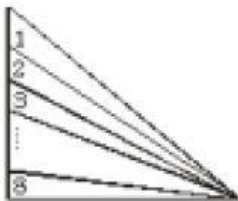
¡Resolvemos!

2. Cuantos triángulos hay en total en cada imagen 10 pts.)

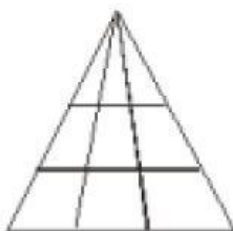
01.



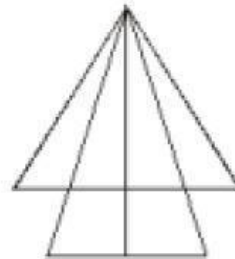
02.



03.



04.



05.

