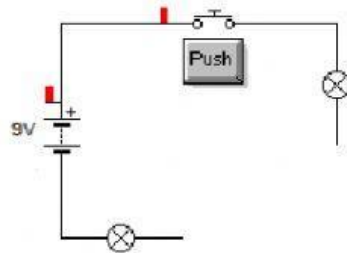
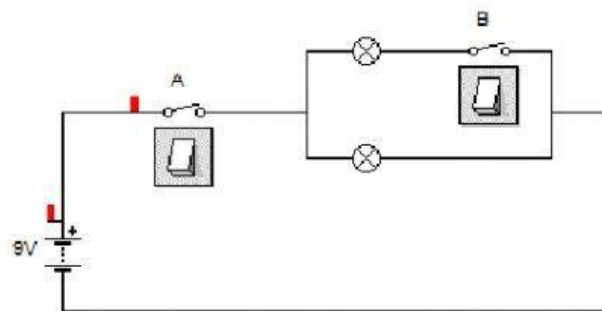


## Conexiones en circuitos

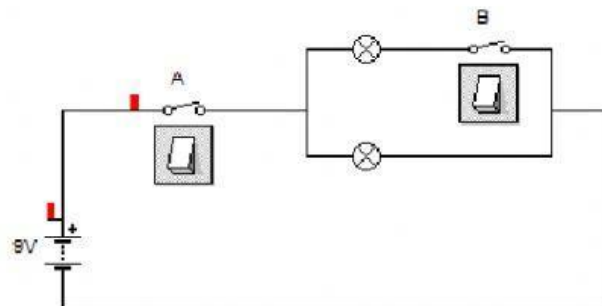
1. ¿Qué bombillas se encienden al accionar el pulsador?



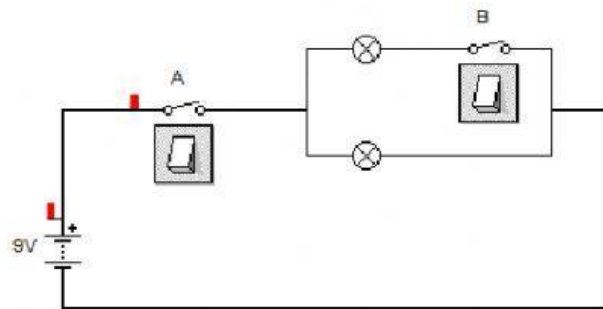
2. ¿Qué bombillas se encienden cuando se cierra sólo el interruptor A?



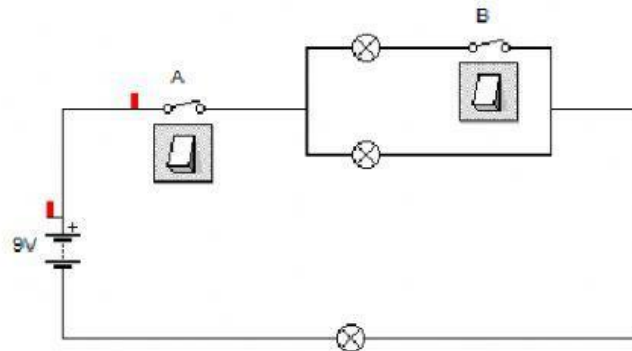
3. ¿Qué bombillas se encienden cuando se cierra sólo el interruptor B?



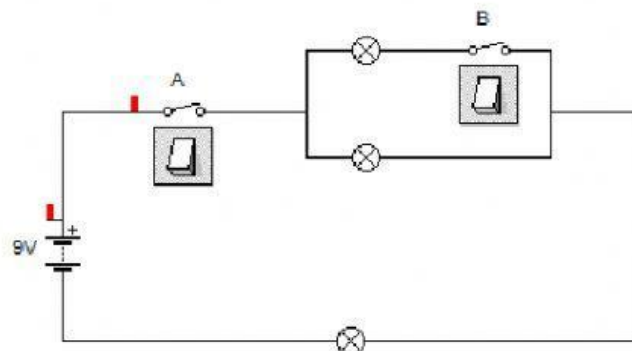
4. ¿Qué bombillas se encienden cuando se cierran a la vez el interruptor A y el B?



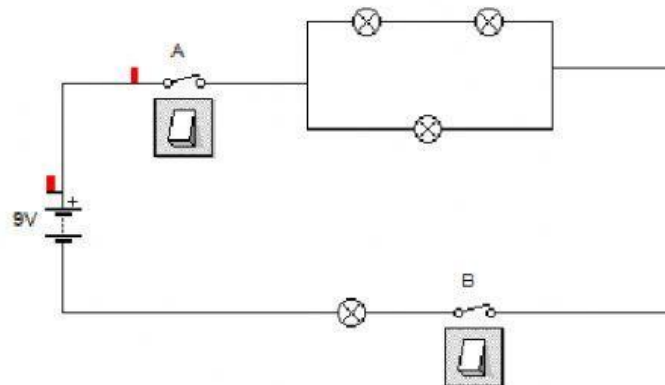
5. ¿Qué bombillas se encienden cuando se cierra sólo el interruptor A?



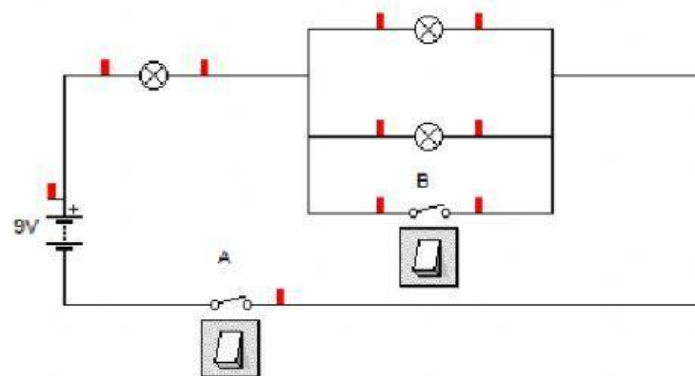
6. ¿Qué bombillas se encienden cuando se cierran a la vez el interruptor A y el B?



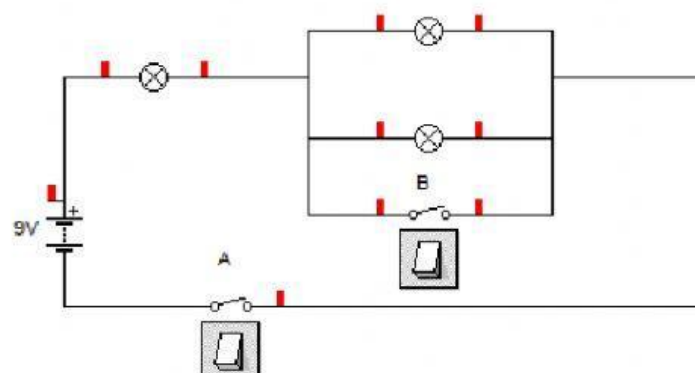
7. ¿Qué bombillas se encienden cuando se cierra sólo el interruptor A?



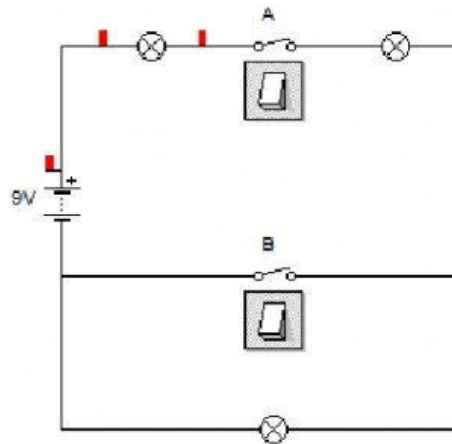
8. ¿Qué bombillas se encienden con el el interruptor A cerrado y el B abierto?



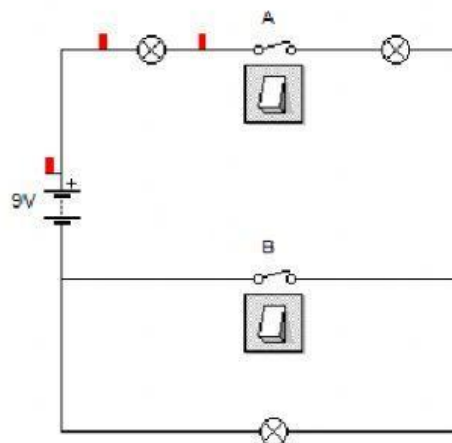
9. ¿Qué bombillas se encienden con el el interruptor A cerrado y el B cerrado?



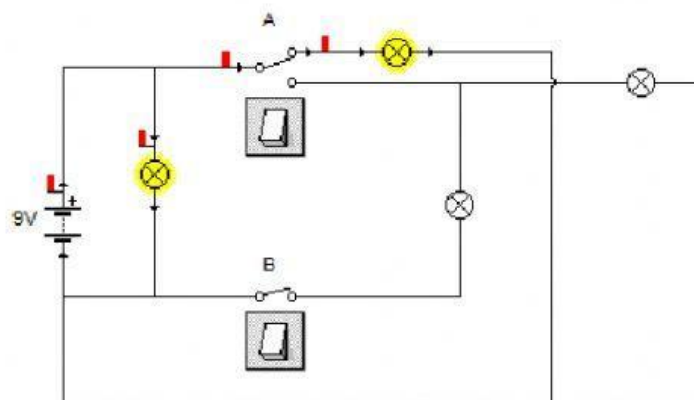
10. ¿Qué bombillas se encienden con el el interruptor A cerrado y el B abierto?



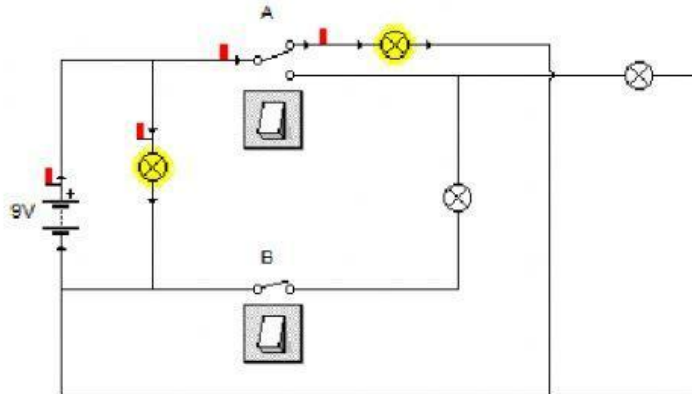
11. ¿Qué bombillas se encienden con el el interruptor A cerrado y el B cerrado?



12. ¿Qué bombillas se encienden cuando se cierra el interruptor B?



13. ¿Qué bombillas se encienden cuando se cambia de posición el conmutador y se deja abierto el interruptor B?



14. ¿Qué bombillas se encienden cuando se cambia de posición el conmutador y se cierra el interruptor B?

