

EVALUACIÓN DE CS. SOCIALES - NOVIEMBRE

Nombre y Apellido:..... Grado:..... Fecha:.....

TILDÁ CON UNA "X"

1. Indica los departamentos de cada Región Geográfica:

PUNA

- Santa Catalina
- Rinconada
- Yavi
- San Pedro
- Cochinoca
- Tumbaya (la mitad)
- Valle Grande
- Dr. Manuel Belgrano
- Santa Barbara
- Susques
- Ledesma
- Humahuaca
- El Carmen
- Palpalá
- Tilcara
- San Antonio

QUEBRADA DE HUMAHUACA

- Santa Catalina
- Rinconada
- Yavi
- San Pedro
- Cochinoca
- Tumbaya (la mitad)
- Valle Grande
- Dr. Manuel Belgrano
- Santa Barbara
- Susques
- Ledesma
- Humahuaca
- El Carmen
- Palpalá
- Tilcara
- San Antonio

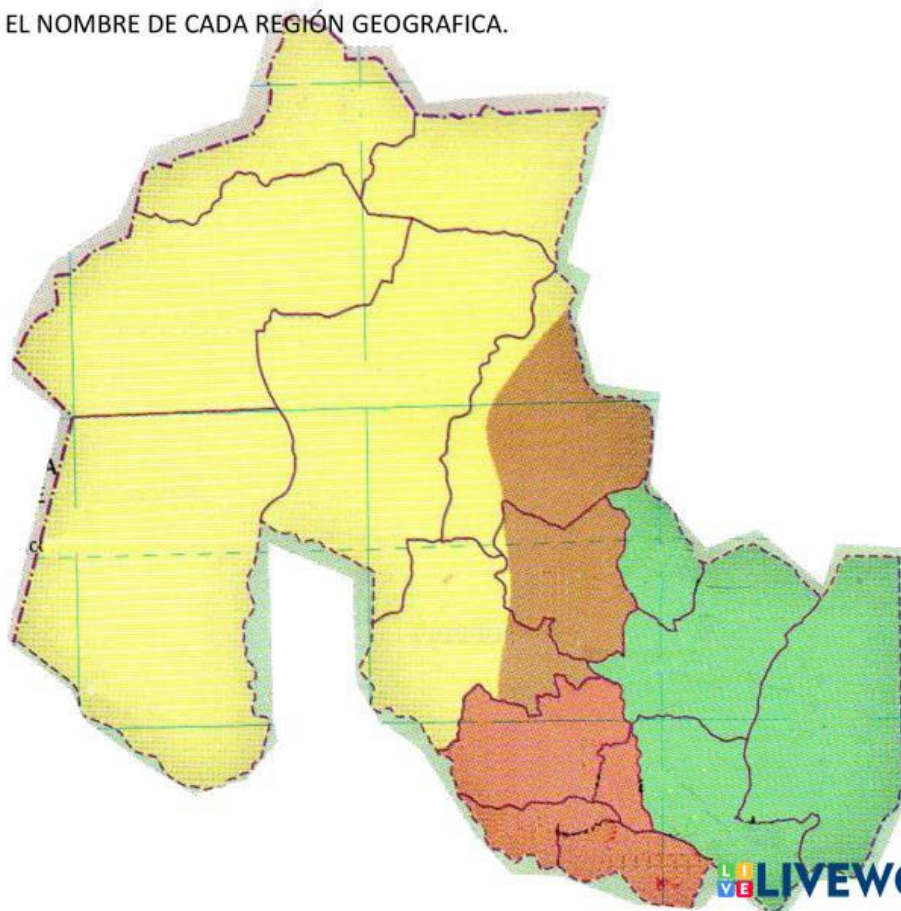
VALLES CENTRALES

- Santa Catalina
- Rinconada
- Yavi
- San Pedro
- Cochinoca
- Tumbaya (la mitad)
- Valle Grande
- Dr. Manuel Belgrano
- Santa Barbara
- Susques
- Ledesma
- Humahuaca
- El Carmen
- Palpalá
- Tilcara
- San Antonio

VALLES ORIENTALES

- Santa Catalina
- Rinconada
- Yavi
- San Pedro
- Cochinoca
- Tumbaya (la mitad)
- Valle Grande
- Dr. Manuel Belgrano
- Santa Barbara
- Susques
- Ledesma
- Humahuaca
- El Carmen
- Palpalá
- Tilcara
- San Antonio

2. INDICÁ EL NOMBRE DE CADA REGIÓN GEOGRAFICA.




3 Une con flecha, cada animal con su respectiva región geográfica:

PUNA




QUEBRADA



CHANCHO DEL MONTE Chancho del Monte

VALLES CENTRALES



VALLES ORIENTALES



LIEBRE DE MONTAÑA Liebre de Montaña

4. Nombra **una planta** característica de cada región:

Puna:

Quebrada:

Valles Centrales:

Valles Orientales:

5. Une con flechas, el clima característico de cada región geográfica:

- PUNA

- QUEBRADA.

- VALLES CENTRALES.

- VALLES ORIENTALES.

- Seco y Frio.

- Seco y ventoso

- Caluroso y húmedo

- Templado

INDICÁ SI ES ACTIVIDAD PRIMARIA, SECUNDARIA O TERCIARIA.

