

SOAL ASSESMEN HUBUNGAN ANTAR SUDUT

Nama :

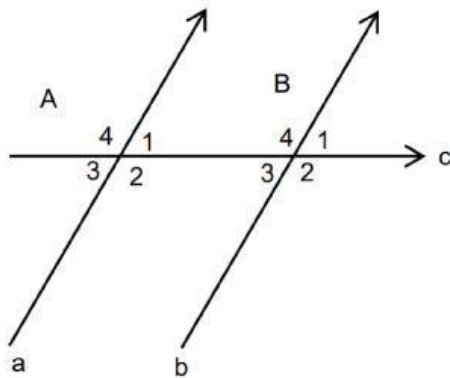
Kelas :

A. SOAL PILIHAN GANDA

1. Hasil penjumlahan dua buah sudut yang saling berpelurus besarnya...

- a. 45°
- b. 60°
- c. 90°
- d. 180°

2. Perhatikan gambar berikut!

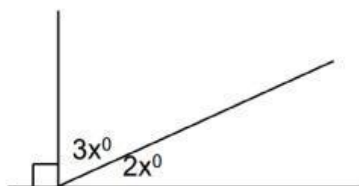


Jika $\angle A_1 = 85^\circ$, maka besar $\angle B_4$ adalah...

- a. 75°
- b. 85°
- c. 95°
- d. 105°

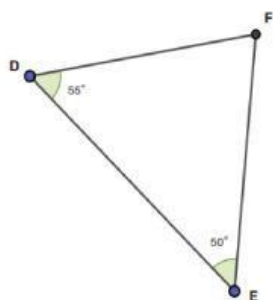
B. SOAL ISIAN

1. Perhatikan gambar berikut ini!



Hitung nilai x° !

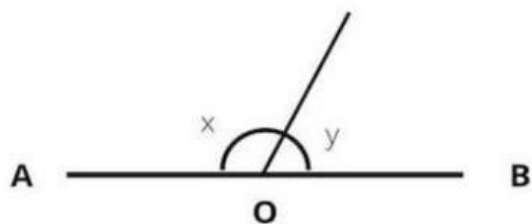
2. Pada $\triangle DEF$ diketahui bahwa dua sudut besarnya 55° dan 50° . Tentukan besar sudut ketiga!



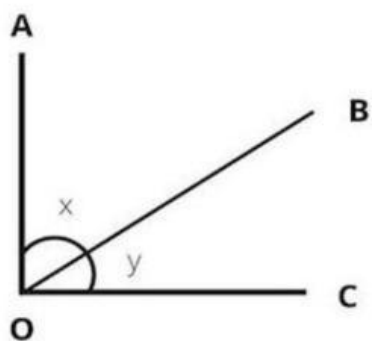
C. SOAL BENAR SALAH

1. Jumlah sudut berpenyiku adalah 60°	Benar	Salah
2. Sudut Sehadap besar sudutnya sama besar	Benar	Salah

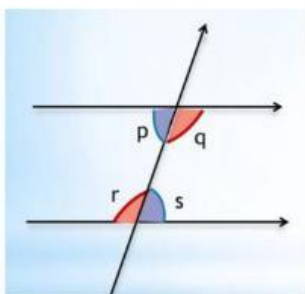
D. SOAL MENJODOHKAN



Besar Sudutnya 90°



Sudut Dalam Berseberangan



Besar Sudutnya 180°