


Todos los cuerpos tienen peso...


1. Observo la balanza y completo con la palabra **más**, **menos** o **igual**.

1.



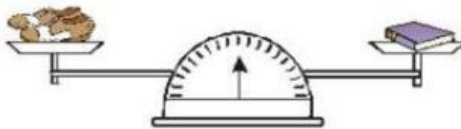
La  tiene _____ peso que la .

2.




La  tiene _____ peso que el .



3.



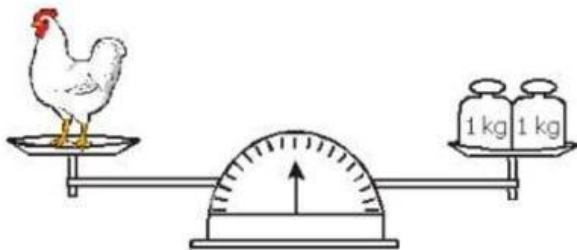
Los  tienen _____ peso que el .

4.

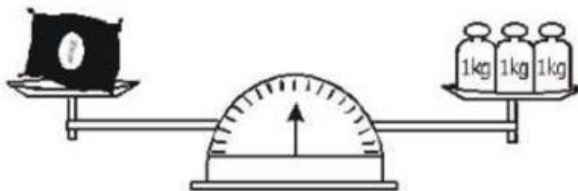


El  tiene _____ peso que la .

2. Observo la balanza y escribo el peso de cada objeto.



Peso de la gallina = _____ kg

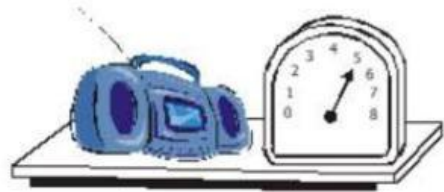


Peso de la saco de arroz = _____ kg


3. Observo la balanza y escribo el peso de cada objeto.



peso = _____ kg



peso = _____ kg



peso = _____ kg

4. Observa la cantidad del peso y escribe en las libras o kilogramos.



$$5 \times 2 = \underline{\hspace{2cm}}$$

5 kg

Pesa _____ lb



$$14 \div 2 = \underline{\hspace{2cm}}$$

14 lb

Pesa _____ kg