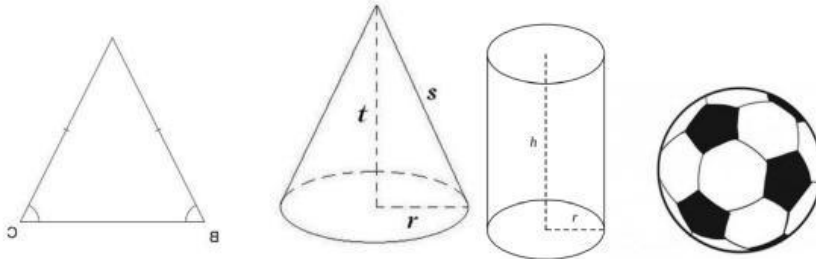


SOAL LKPD NUMERASI

SOAL PILGAN

Bangun ruang dibawah ini, kecuali

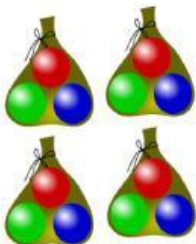


SOAL ISIAN SINGKAT

Sebuah kubus mempunyai volume 1.728 cm^3 . Panjang rusuk kubus tersebut adalahcm

Sudut terbentuk dari dua sinar garis lurus yang

SOAL DROP DOWN



Terdapat 4 kantong plastik. Setiap kantong berisi 3 bola, jumlah bola seluruhnya adalah



sudut pada gambar jam dinding tersebut besarnya.

SOAL CHECK BOX

Bangun datar yang memiliki sisi empat adalah

Segitiga

Tabung

Persegi

Lingkaran

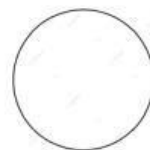
SOAL JOIN ARROW

Pasangkan sesuai pasangannya!

Persegi Panjang

Lingkaran

Segitiga





Persegi




SOAL DRAG & DROP


Kelompokkan bangun ruang dibawah ini dengan nama bangun ruang!



Balok



Kerucut



Tabung