

a pola bangun datar

bangun datar dapat disusun menjadi sebuah pola
perhatikan contoh berikut

contoh



pola lingkaran – segitiga

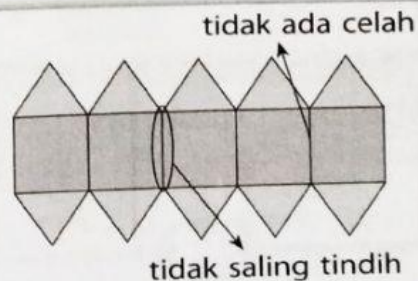
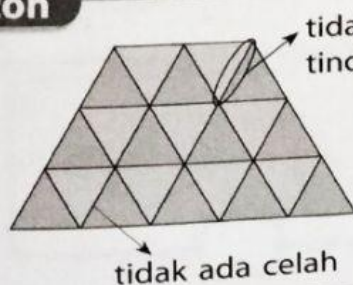


pola segi empat – lingkaran – segitiga

b pola pengubinan



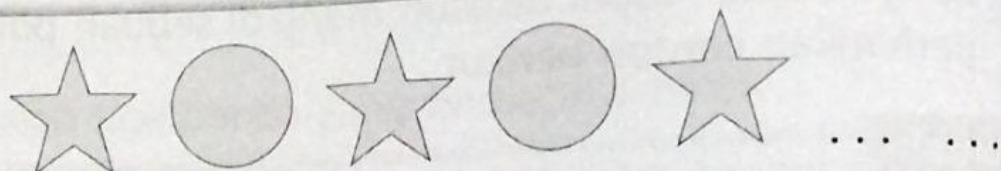
pengubinan adalah penyusunan bangun datar tanpa
ada celah dan tidak saling tindih
pengubinan juga dapat menggunakan
lebih dari satu jenis bangun datar
perhatikan gambar berikut

contoh

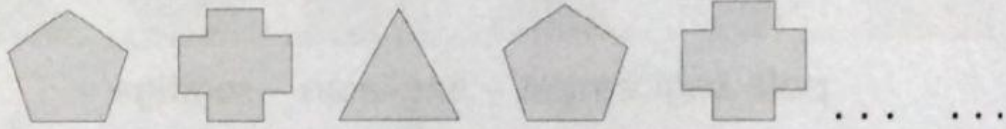


pilihlah gambar pola yang merupakan
pola selanjutnya dari pola berikut

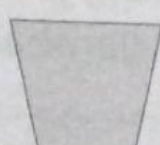
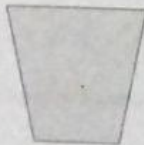
1




2



3





...



berilah tanda ✓ pada nama pola yang benar

1





segitiga – lingkaran

segi empat – lingkaran



2




segitiga – segi empat –
lingkaran

segi empat – segitiga –
lingkaran



3

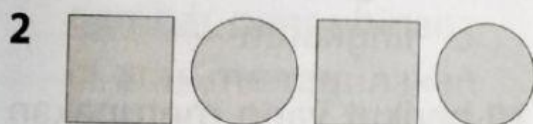
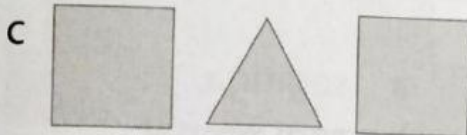
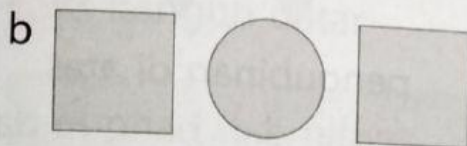
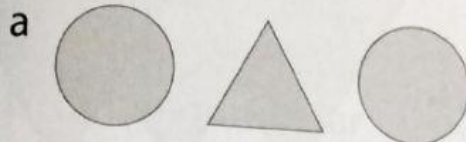


lingkaran – segi empat

lingkaran – segitiga

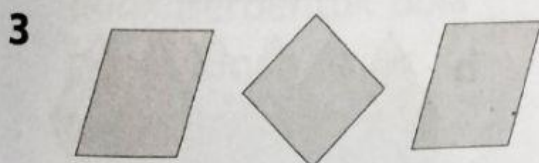
a pilihlah satu jawaban yang paling benar

1 berikut gambar pola yang memiliki pola lingkaran – segitiga adalah ...

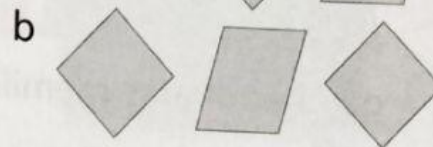


gambar di atas memiliki pola ...


- a segitiga – lingkaran
- b segi empat – lingkaran
- c segitiga – segi empat



gambar yang merupakan lanjutan dari pola di atas adalah ...

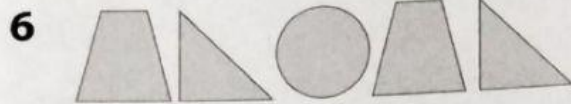



4 berikut gambar yang memiliki pola 2 bangun datar adalah ...



5 berikut gambar yang memiliki pola 3 bangun datar adalah ...






gambar di atas memiliki pola . . .

- a segitiga – lingkaran – segi empat
- b segi empat – segitiga – lingkaran
- c segitiga – segi empat – lingkaran


7 gambar berikut yang memiliki pola segitiga – lingkaran – segi empat adalah . . .



8 penyusunan bangun datar tanpa ada celah dan tidak saling tindih disebut . . .

- a pola
- b pengubinan
- c penyusunan

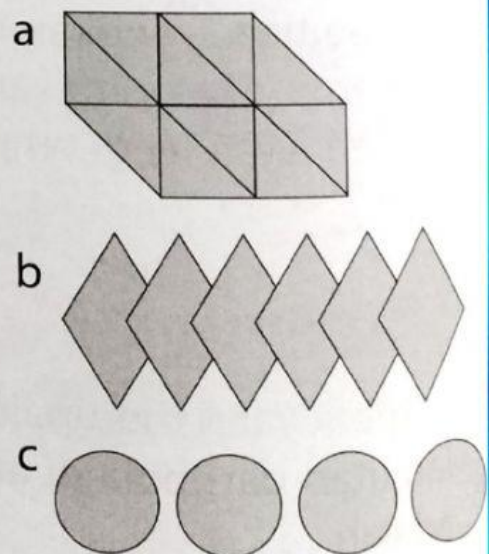
9



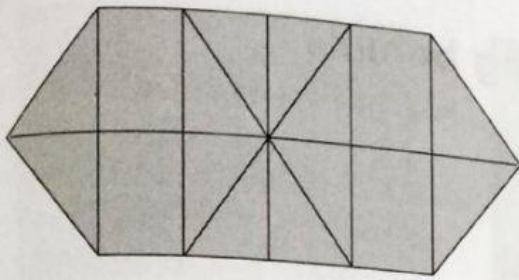
pengubinan di atas terdiri dari bangun datar . . .

- a segitiga
- b segi empat
- c lingkaran

10 berikut yang merupakan gambar pengubinan adalah . . .



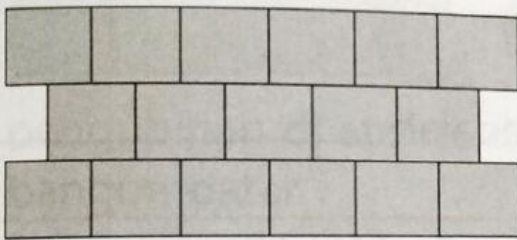
11



gambar di atas merupakan pengubinan yang terdiri atas ...

- a 1 bangun datar
- b 2 bangun datar
- c 3 bangun datar

12



gambar pengubinan di atas menggunakan bangun datar ...

- a segitiga
- b segi empat
- c segi lima

13 berikut gambar yang *tidak* berbentuk pola pengubinan yaitu ...



b



c



14 pengubinan adalah susunan bangun datar yang ...

- a saling tindih dan tidak ada celah
- b tidak saling tindih dan ada celah
- c tidak saling tindih dan tidak ada celah

15 berikut gambar pengubinan yang terdiri dari satu bangun datar yaitu ...

