


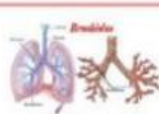

KEGIATAN BELAJAR 1

Struktur dan fungsi sistem pernafasan manusia

C.Aktivitas Belajar

Fase 4:
Mengembangkan
dan menyajikan
hasil
karya

Isilah tabel dibawah ini, carilah informasi terkait stuktur dan fungsi organ Pernafasan

organ	struktur	fungsi
	Lobang hidung, rambut hidung, lendir	Menghirup oksigen (O ₂) dan sebagai jalur keluarnya carbondioksida (CO ₂)
Faring	Nasofaring, orofaring, laringofaring
Laring	Menyalurkan udara untuk pernafasan
.....	Terusan dari trakea, terdiri dari tulang rawan, otot polos dan lendir	Jalan keluar masuknya udara dari paru-paru
	Membantu distribusi udara dalam paru-paru
Trakea	otot polos dan tulang rawan yang menyerupai cincin sebanyak 16–22 buah.
.....	Paru-paru kanan memiliki 3 lobu, paru-paru kiri memiliki 2 lobus dan dilapisi seraput dan membran serosa
	Tempat pertukaran gas antara udara yang dihirup dengan darah