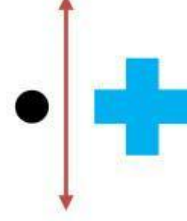
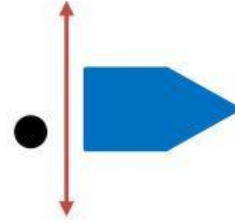
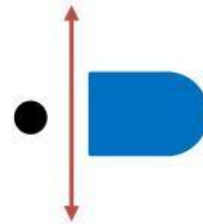
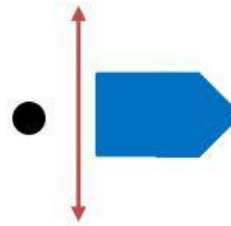

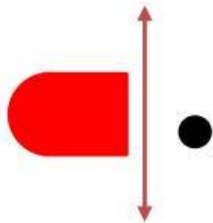
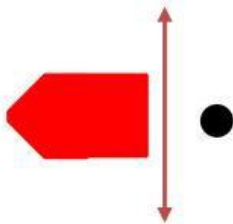
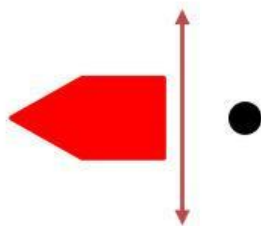


Nombre y Apellido: _____

Traslación y Simetría

¡Resolvemos!

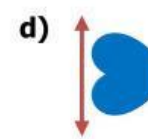
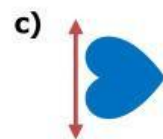

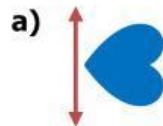

1. Una correctamente las imágenes según su correcta traslación. (8 pts)



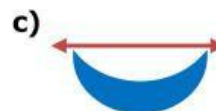
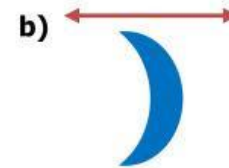
Nombre y Apellido: _____

¡Resolvemos!

2. Marque la alternativa que corresponda según su traslación. (4 pts)


¡Resolvemos!

3. Marque la alternativa que corresponda según su traslación. (4 pts)


¡Resolvemos!

4. Marque la alternativa que corresponda según su traslación. (4 pts)

