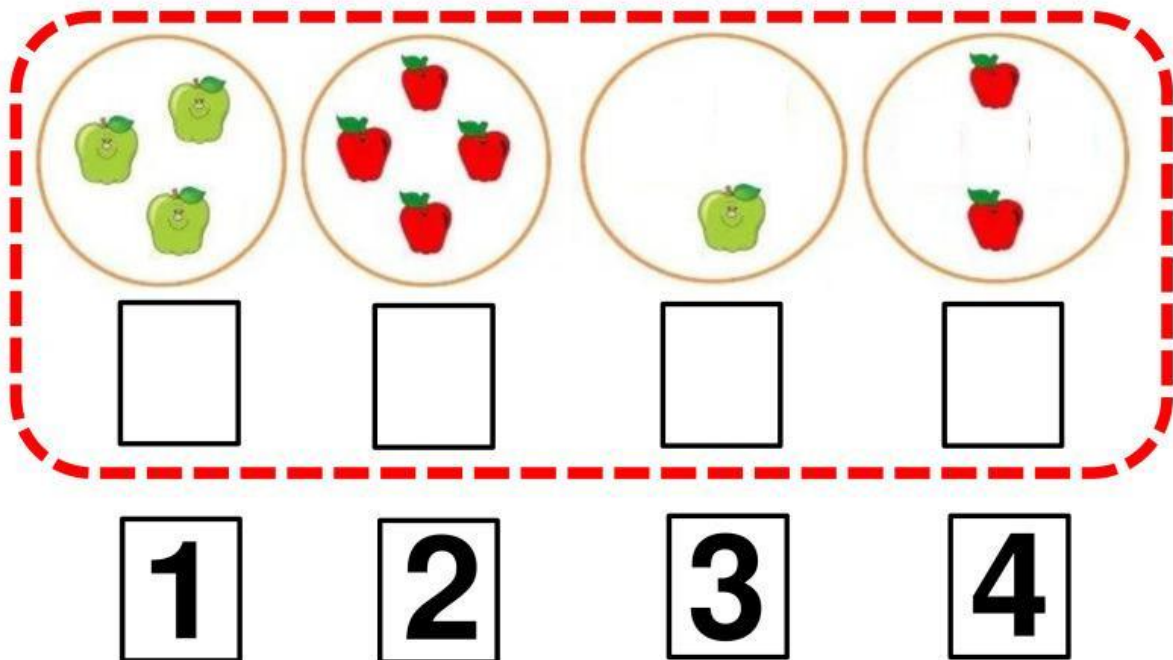


Nombre y Apellido: _____

Ejercicios con números del 1 al 5


¡Arrastramos!

1. Observa cada conjunto y coloca el número de elementos que tiene cada imagen. (4 pts.)



¡Unamos!

2. Una las estrellas amarillas con las estrellas blancas, representando la misma cantidad. (4 pts.)



Nombre y Apellido: _____

¡Marquemos!


3. observa las imágenes y según la cantidad marque la respuesta correcta. (4 pts.)




1 5 3



2 4 1



2 4 5



4 2 3

¡Completamos!

4. halla el resultado de las siguientes sumas: (2 pts.)

$$\begin{array}{c}
 \text{1 apple} + \text{2 apples} = \text{3 apples} \\
 \boxed{1} + \boxed{2} = \boxed{}
 \end{array}$$

Nombre y Apellido: _____



$$\boxed{2} + \boxed{2} = \boxed{}$$