

Ejercicios con números del 1 al 5

¡Arrastramos!

1.- Observa cada conjunto y coloca el número de elementos que tiene cada imagen



3















5



3

¡Unamos!

2.- Una las bolitas azules con las bolitas blancas que corresponde a la misma cantidad

- a)   
- b)   
- c)   
- d)   

¡Marquemos!

3.- Observa las imágenes y según la cantidad marque la respuesta correcta



5 1 3



3 5 1




1 4 2



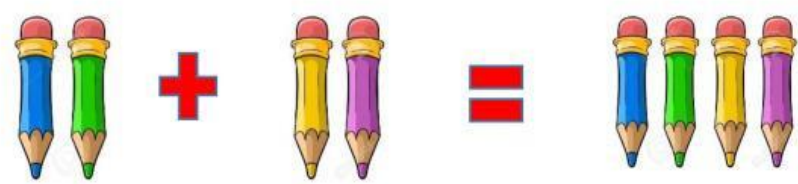
1 2 3

¡Completamos!

4.- Halla el resultado de las siguientes sumas.



1 + 2 =



$$\boxed{2} + \boxed{2} = \boxed{}$$