

EJERCICIOS CON NUMEROS DEL 1 AL 5

¡Arrastramos ¡

1. Observa cada conjunto y coloca el número de elementos que tiene cada imagen. (4 pts.)

The exercise consists of four circles, each containing a different number of fruits. Below each circle is a blue square for the answer. Below the squares are boxes containing the numbers 1, 2, 3, and 4.

<input type="text"/>	<input type="text"/>	<input type="text"/>	<input type="text"/>
1	2	3	4

¡Unamos ¡

2. Une las estrellas rojas con las estrellas amarillas, representando la misma cantidad. (4 pts.)

The exercise consists of four rows, labeled a) through d). Each row has a set of red stars and black dots on the left, and a set of black dots and yellow stars on the right. The goal is to connect the red stars with the yellow stars of the same quantity.

a)				
b)				
c)				
d)				

¡Marquemos !

3. Observa las imágenes y según la cantidad marque la respuesta correcta. (4 pts.)




1 3 5



1 3 5




1 3 5



1 3 5

¡Completamos !

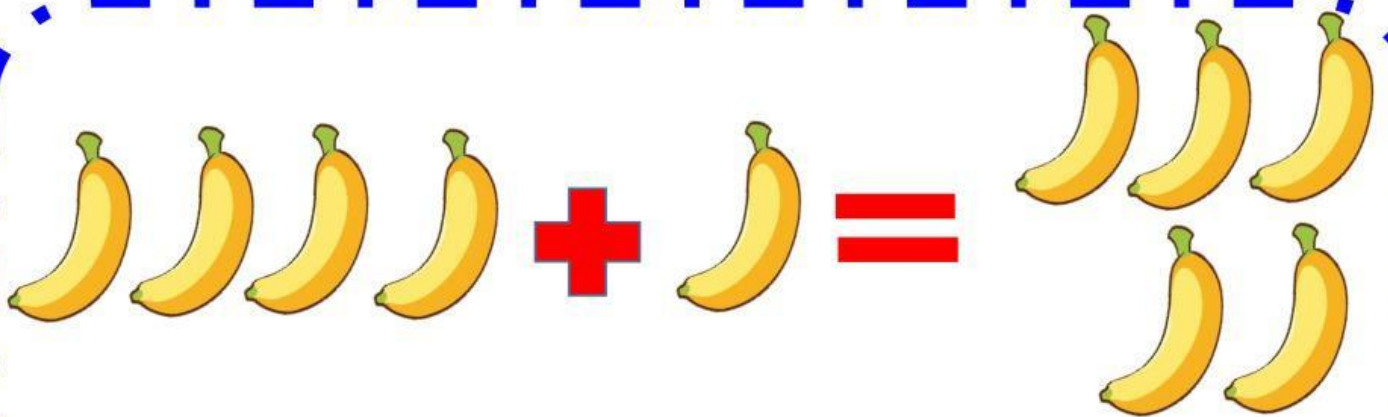
4. Halle el resultado de las siguientes sumas. (4 pts.)



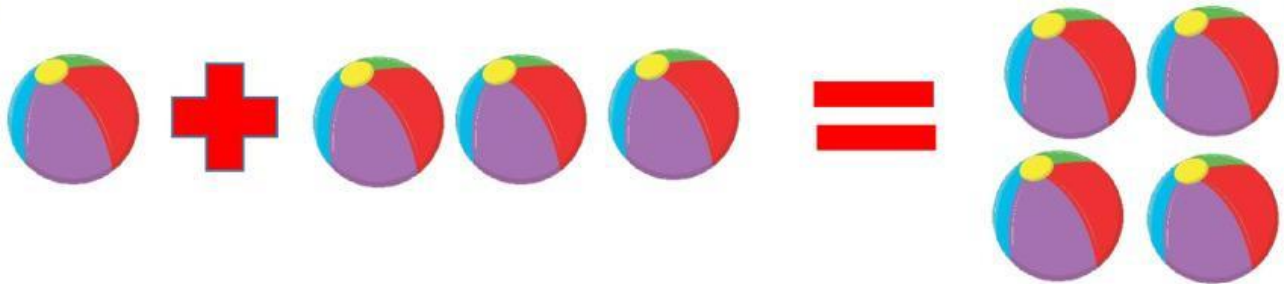
1 + 2 =



$$\boxed{2} + \boxed{2} = \boxed{}$$



$$\boxed{4} + \boxed{1} = \boxed{}$$



$$\boxed{1} + \boxed{3} = \boxed{}$$