



Nombre y Apellido: \_\_\_\_\_

## Comparamos Cantidades

### ¡Resolvemos!

1. Realiza la siguiente operación (5 pts.)



- María tenía 3 \$ y su abuela le regalo 5 \$. ¿Cuánto dinero tiene en total María?

<u>Tenía:</u>	<u>Le regalaron:</u>	<u>Resuelve:</u>
		

### ¡Resolvemos!

2. Resuelve la siguiente operación (5 pts.)

- El granjero paseaba con 8 ovejas y se le escaparon 2. ¿Cuántas ovejas le quedan al granjero?



<u>Había:</u>	<u>Se escaparon:</u>	<u>Resuelve:</u>
		

Nombre y Apellido: \_\_\_\_\_

### ¡Resolvemos!

3. Resolvemos la siguiente operación (5 pts.)

- En un corral había 6 huevos y una gallina ha puesto 4 más. ¿Cuántos huevos hay en total?

<u>Había:</u>	<u>Ha puesto:</u>	<u>Resuelve:</u>
		

### ¡Resolvemos!

4. Resolvemos la siguiente operación (5 pts.)

- La abuela ha preparado 9 galletas y Martín se comió 5. ¿Cuántas galletas quedan ahora?

<u>Había:</u>	<u>Se comió:</u>	<u>Resuelve:</u>
		