


Lembar Kerja Peserta Didik (LKPD)

Nama : _____

Kelas : 2 _____

Pasangkan berat benda dengan jumlah biji timbangannya.




3 kg




4 kg



7 kg



2 kg



5 kg

