


EL PERÍMETRO

Averigua el perímetro de estos polígonos.



3 cm

Perímetro:



2 cm

Perímetro:



2 cm

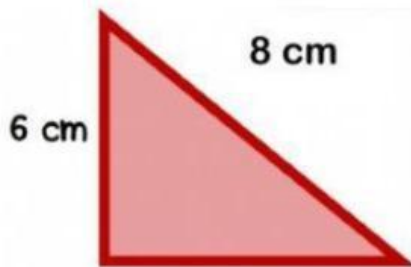
4 cm

Perímetro:



2 cm

Perímetro:

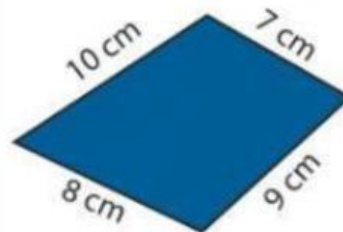


6 cm

8 cm

7 cm

Perímetro:



10 cm

7 cm

8 cm

9 cm

Perímetro: