




Primaria "Alis Fenix"

Evaluación Trimestral MATEMÁTICAS

5to Grado




Matemáticas

1. Julieta compró en el mercado $\frac{1}{2}$ kg de limones, $\frac{3}{4}$ kg de naranjas
¿Cuánto pesa la compra en total?

(A) $\frac{7}{2}$ kg (B) $\frac{9}{8}$ kg (C) $\frac{5}{4}$ kg (D) $\frac{11}{4}$ kg

2. ¿Qué fracción está señalada con la letra A?

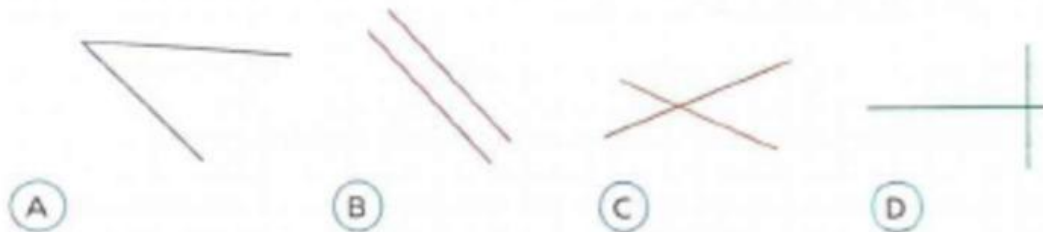


(A) $\frac{2}{8}$ (B) $\frac{3}{4}$
(C) $\frac{1}{2}$ (D) $\frac{1}{6}$

3. ¿Cuál es el resultado de dividir 345 entre 25?

(A) 13 (B) 38 (C) 13.8 (D) 1.38

4. ¿Cuál de los arreglos muestra rectas perpendiculares?

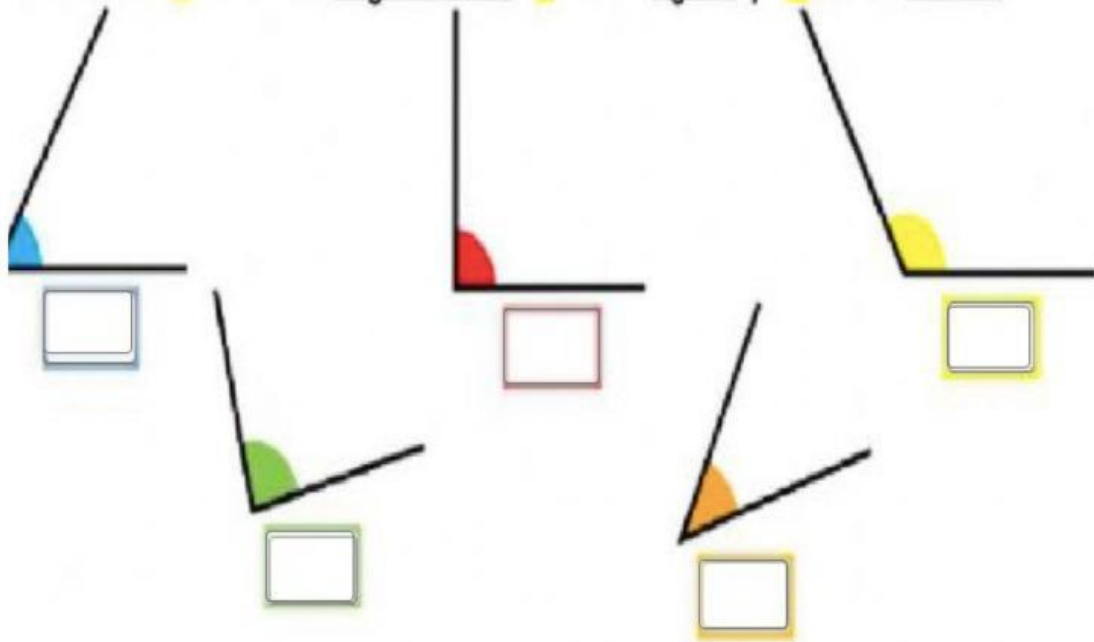


5. ¿Qué fracción representa la parte verde en la figura?

(A) $\frac{8}{8}$ (B) $\frac{4}{4}$
(C) $\frac{1}{2}$ (D) $\frac{4}{12}$



6. Escribe "R" si es un ángulo recto, "A" si es agudo y "O" si es obtuso.



7. Escribe cada nombre donde corresponde.



Contiene más
de 1 litro

Contiene menos
de 1 litro

8. Anota la unidad del recuadro que emplearías para expresar qué tan pesado es cada objeto.



9. Une según correspondan las unidades de tiempo

Una semana=	5 años
Un mes=	2 meses
Un año=	29, 30, 31 días
Un bimestre=	6 años
Un semestre=	Un millón de años
Un lustro=	7 días
Un sexenio=	6 meses
Una década=	365 días
Un cron=	10 años

10. Resuelve las siguientes operaciones

$$\begin{array}{r} 2495 \\ + 6911 \\ \hline 1054 \end{array}$$

$$\begin{array}{r} 9741 \\ - 2562 \\ \hline \end{array}$$

$$\begin{array}{r} 2391 \\ \times 72 \\ \hline \\ \hline \end{array}$$

$$5 \overline{)9250}$$

$$13 \overline{)9723}$$

¡Buena suerte!

