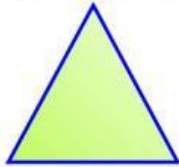




Instrucciones: Calcula el área y perímetro de los siguientes triángulos en tu cuaderno; si tienes duda pregúntale a tu profesor.

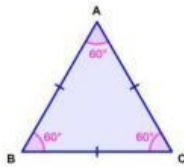
1.- Calcula el área y perímetro de un triángulo equilátero que tiene lados con una longitud de 11 metros y una altura de 12 m



P=

A=

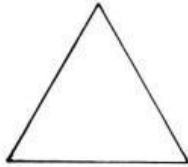
2.- ¿Cuál es el área y perímetro de un triángulo equilátero que tiene lados con una longitud de 14 cm y una altura de 15cm?



A=

P=

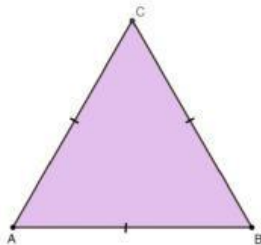
3.- Encuentra el perímetro y el área de un triángulo equilátero que tiene lados con una longitud de 15 mm y una altura de 16mm



P=

A=

4. Calcula el área y perímetro de un triángulo isósceles que tiene una base con una longitud de 12 cm y lados congruentes que miden 14 cm.



A=

P=