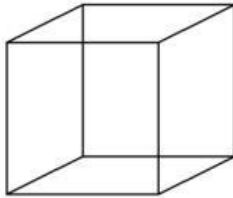





Instrucciones: Calcula el volumen de los siguientes cubos en tu cuaderno; si tienes duda pregúntale a tu profesor.

1.- Calcula el volumen de un cubo de arista 2 m.




V=

2.- Calcula el volumen de un cubo rubik que mide 10cm de cada lado.



V=

3.- Calcula el volumen de este cubo de metal. Cada arista mide 25 cm.



V=

4.- Calcula el volumen de un dado, cuyas medidas de cada lado son de 2cm



V=