





Instrucciones: Calcula el diámetro, circunferencia y perímetro de los siguientes círculos en tu cuaderno; si tienes duda pregúntale a tu profesor.

1.- Encuentra la longitud del perímetro de un círculo que tiene un radio de 12 m.




P=

2.- Si es que un círculo tiene un radio de 13 cm, ¿cuál es su área?




A=

3.- Encuentra el perímetro de un círculo que tiene un radio de 14 cm.



d=

4.- Si es que un círculo tiene un área de 123m², ¿cuál es su radio?.



r=