





Instrucciones: resuelve las siguientes circunferencias en tu cuaderno; si tienes duda pregúntale a tu profesor.

1.- Determina el perímetro de un círculo que tiene un diámetro de 6 metros.




P=

2.- Si es que un círculo tiene un radio de 5 cm, ¿cuál es su área?



A=

3.- Encuentra el perímetro de un círculo que tiene un diámetro de 15 cm.



P=

4.- Encuentra el área de un círculo que tiene un radio de 12 mm.



A=