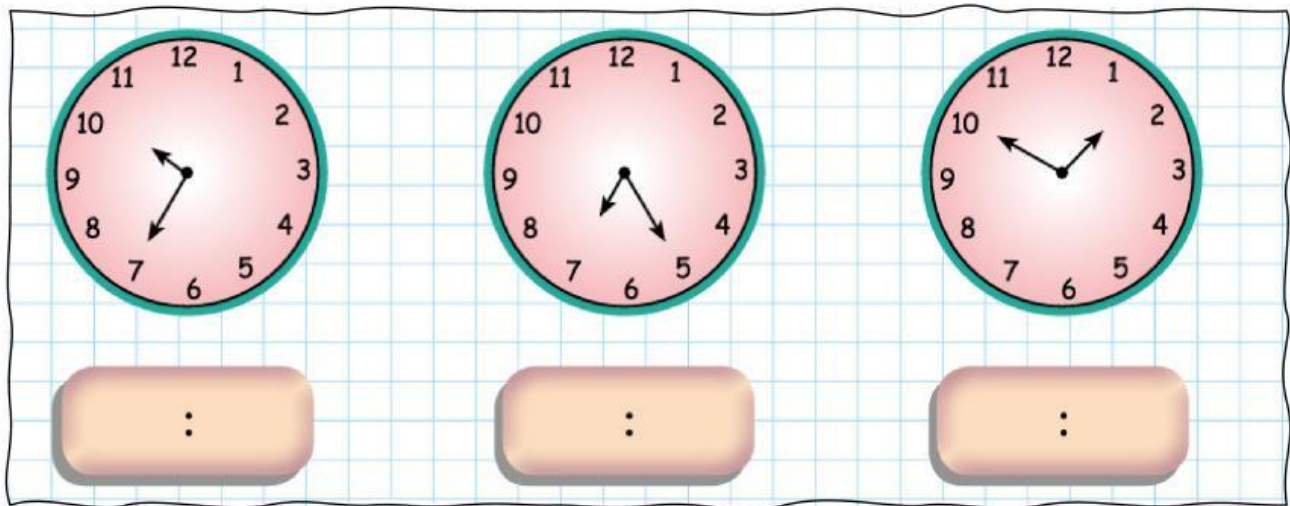


Nombre y Apellido: _____

Medimos el Tiempo

¡Resolvemos!

1. Escribe la hora que indica cada reloj (3 pts)



¡Completa!

2. Escribe el valor de las medidas de tiempo (6 pts)

• 45 minutos = _____ horas

• 2 días = _____ minutos

• 2 horas = _____ minutos

• 4 horas = _____ segundos


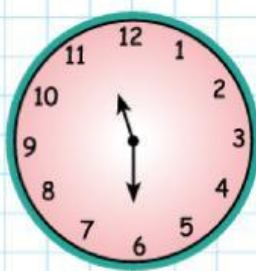






• 3 días = _____ horas

• 90 minutos = _____ segundos

Nombre y Apellido: _____







¡Completamos!

3. Escribe la hora que marca cada reloj y menciona, ¿Cuánto tiempo transcurre? (6 pts)

			
			
Han pasado _____ minutos.		Han pasado _____ minutos.	

¡Resuelve!

4. ¿Cuánto tiempo ha pasado? Indica el tiempo transcurrido (3 pts)

	→			→			→	
Han pasado _____ minutos.		Han pasado _____ minutos.		Han pasado _____ minutos.				

¡Resuelve!

5. Escribe el valor de las medidas de tiempo (2 pts)

• 3 horas = _____ minutos.

• 1 día = _____ minutos.

