



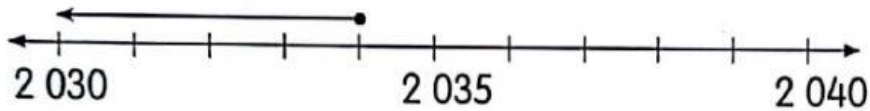
BUNDAR NOMBOR

Aktiviti 1



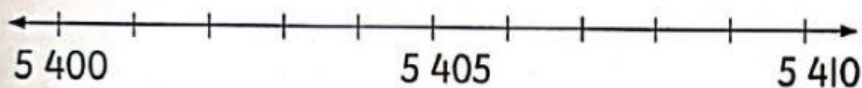
Gunakan garis nombor untuk menjawab soalan.

- a** Bundarkan 2 034 kepada **puluh** terdekat.



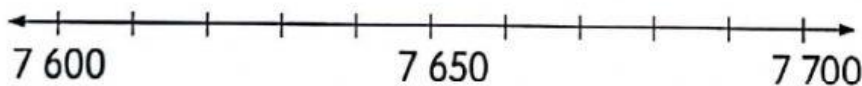
2 034 dibundarkan menjadi .

- b** Bundarkan 5 408 kepada **puluh** terdekat.



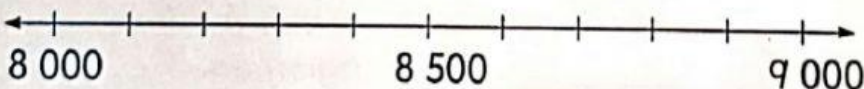
5 408 dibundarkan menjadi .

- c** Bundarkan 7 620 kepada **ratus** terdekat.



7 620 dibundarkan menjadi .

- d** Bundarkan 8 392 kepada **ribu** terdekat.



8 392 dibundarkan menjadi .

Aktiviti 2



1 Bundarkan nombor kepada:

a puluh terdekat.


b ratus terdekat.

c ribu terdekat.



2 314 →

1 865 →



5 417 →

4 661 →



1 680 →

7 362 →

2 Tulis puluh, ratus atau ribu.

a



7 011 dibundarkan kepada
 terdekat
menjadi 7 010.

b



9 925 dibundarkan kepada
 terdekat
menjadi 10 000.

c

3 450 dibundarkan kepada
 terdekat
menjadi 3 500.

