



NOMBRE:.....

# 1. Observa y calcula cuántos hay.




y  son .

+  =

Hay . Hay .

En total hay  garfios.



y  son .

+  =

Hay . Hay .

En total hay  sombreros.

NOMBRE:.....

# 1. Observa y calcula cuántos hay.

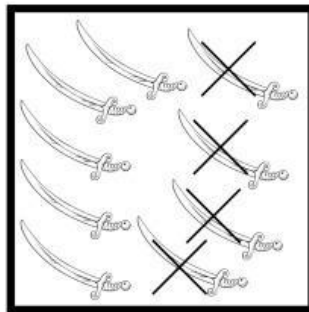



menos  son

-  =

Hay . Doy

En total tengo  calaveras.



menos  son

-  =

Hay . Doy

En total tengo  espadas.