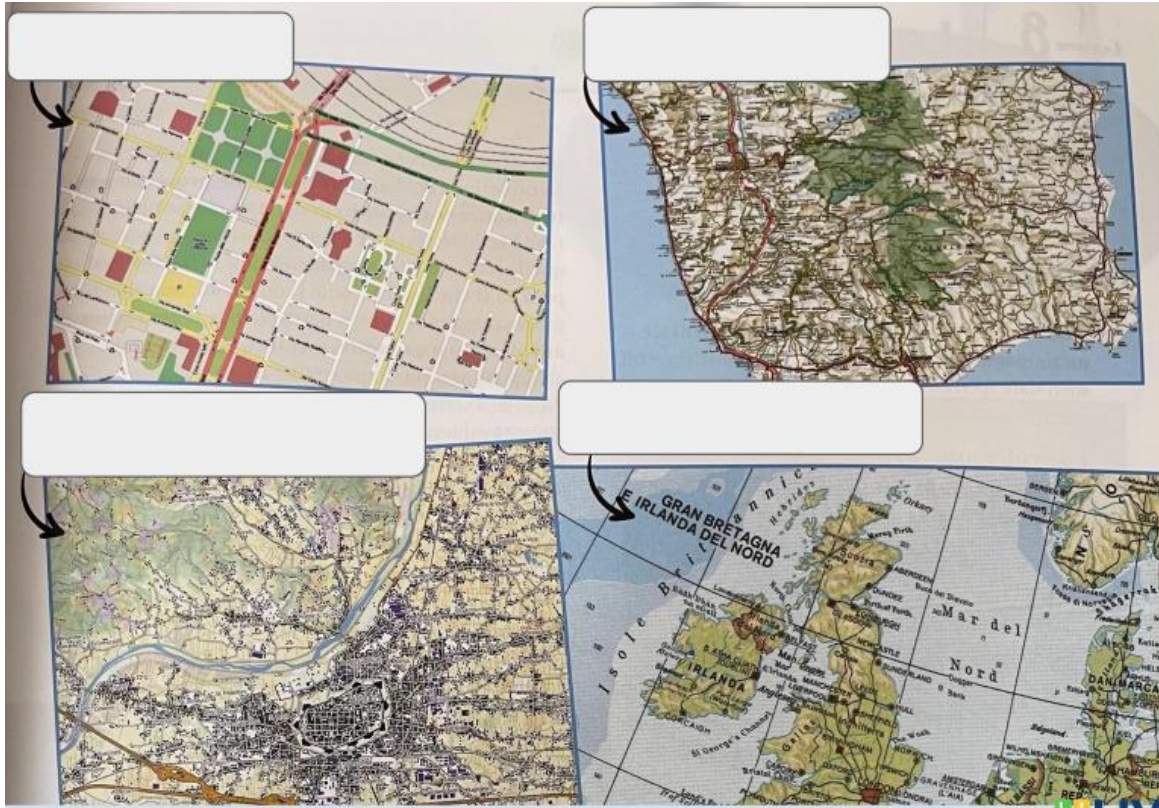


Gli strumenti della Geografia



Orienta la
seguente
carta
geografica
scrivendo il
nome dei
punti
cardinali.



Che tipologia di carta è?

Trascina le etichette e posizionale al posto giusto.

Pianta o mappa

Carta corografica

Carta topografica

Carta geografica

Osserva il disegno e inserisci le etichette al punto corrispondente



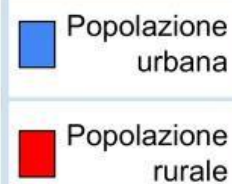
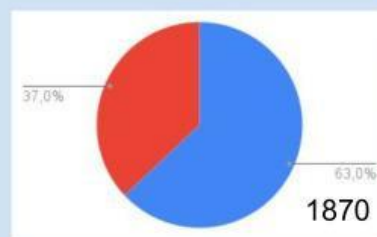
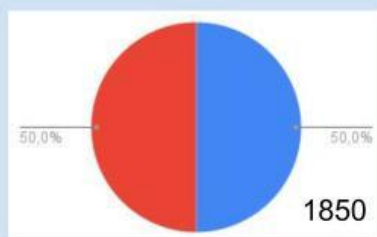
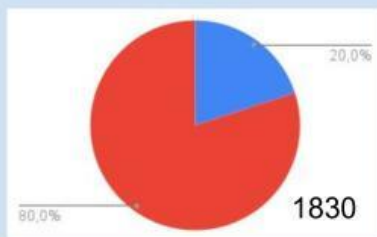
Polo Nord

Equatore

Polo Sud

Meridiano di
Greenwich

Osserva i grafici e seleziona solo le affermazioni corrette



Negli anni considerati la popolazione che viveva nelle campagne è sempre stata superiore a quella che viveva in città.

Il periodo in cui la percentuale di popolazione urbana si è triplicata è quello dal 1830 al 1870.

Nel 1830 l'80% della popolazione viveva nelle campagne.

Negli anni considerati le percentuali di popolazione rurale sono progressivamente diminuite, mentre sono aumentate quelle della popolazione urbana.

Latitudine e longitudine



La latitudine e la longitudine sono, formate da linee
..... che si chiamano e
..... . La Latitudine è la distanza di un luogo
..... , che è il di riferimento che divide la terra
in due, quello Nord si chiama , quello Sud
..... . La massima ampiezza della latitudine è di
La longitudine è la distanza di un luogo, città dell'Inghilterra.
I hanno una longitudine che varia da 0° a 180° . Ogni 15° di longitudine si ha un
..... La superficie terrestre è divisa in 24 fusi orari che corrispondono al moto di
.....

Trova latitudine e longitudine delle seguenti città

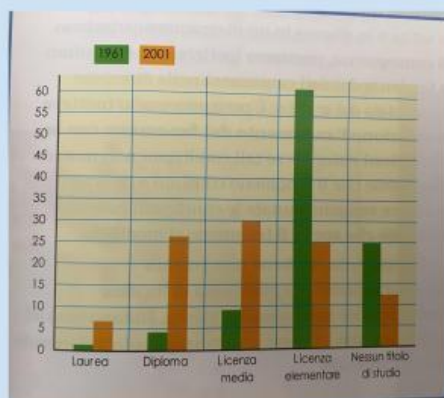


città	latitudine	longitudine
Palermo	38°N	13°E
Bari	41°N	17°E
Firenze	44°N	11°E
Torino	45°N	8°E

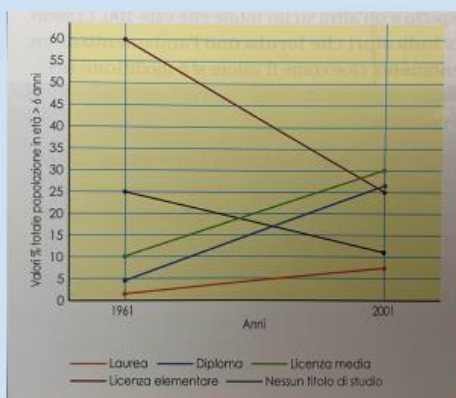
GRAFICI E TABELLE RELATIVI AL GRADO DI ISTRUZIONE IN ITALIA NEL 1961 E NEL 2001

Indica la tipologia di ognuno

Titolo di studio	1961	2001
Laurea	1%	7%
Diploma	4%	26%
Licenza media	9%	30%
Licenza elementare	61%	25%
Nessun titolo	25%	12%

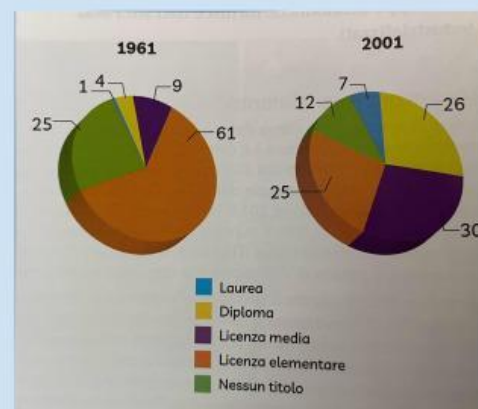


B



C

A



D