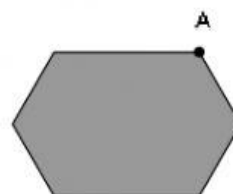
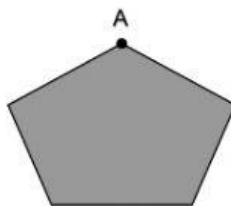


1

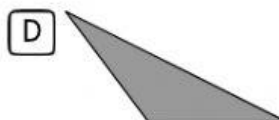
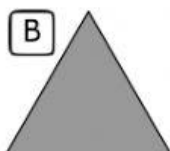
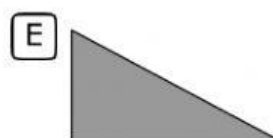
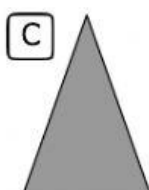
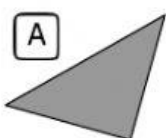
Dibuja en cada polígono una diagonal que parta del vértice

A.



2

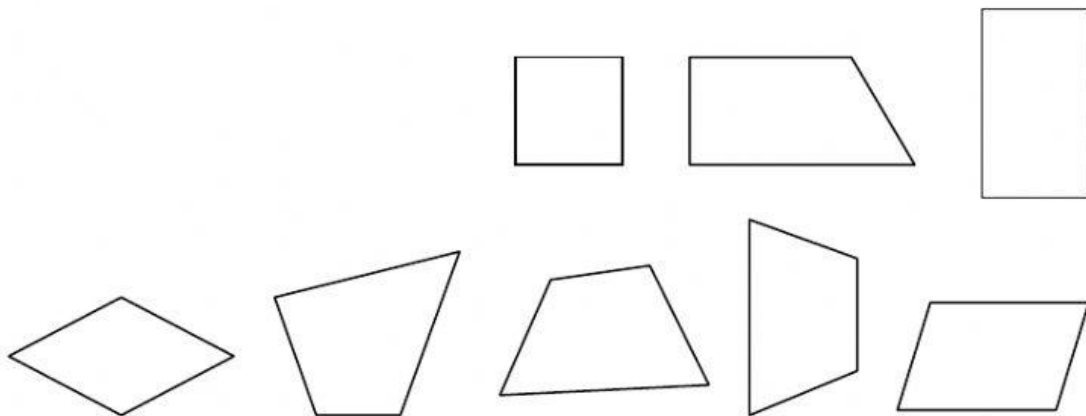
Clasifica los siguientes triángulos según sus lados y sus ángulos.



	SEGÚN SUS LADOS	SEGÚN SUS ÁNGULOS
A		
B		
C		
D		
E		
F		

3 Arrastra cada figura a su lugar.

Los paralelogramos	Los trapezios.	Los trapezoides



- Escribe dentro de cada paralelogramo su nombre.

4 Calcula el perímetro.

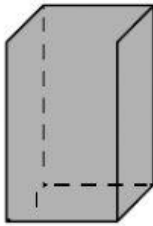
A De un triángulo equilátero de 5 cm de lado.

B De un rectángulo cuyos lados miden 6 cm y 2 cm.

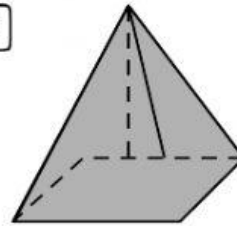
5

Completa la ficha de cada cuerpo.

A



B



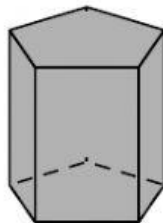
Número de vértices	▶
Número de caras	▶
Número de aristas	▶

Número de vértices	▶
Número de caras	▶
Número de aristas	▶

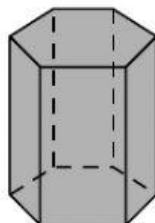
6

Clasifica estos prismas y pirámides.

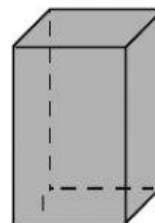
A



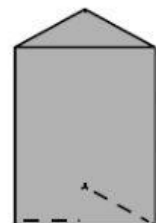
B



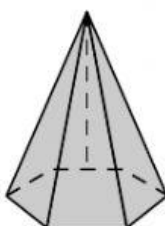
C



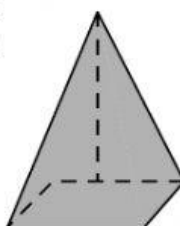
D



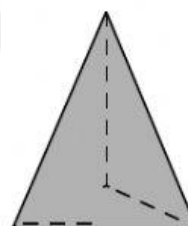
E



F



G



H

