



Atividade de Geografia 6º ano

Nome: _____

Data: ___ / ___ / ___ 6º _____ Prof: Ana Paula



1º) Observe as imagens e responda:



(A)



(B)



(C)






(D)

- Qual das imagens apresenta mais elementos artificiais?.

- Qual das imagens apresentam mais elementos naturais?
- Preencha a tabela com base no que você observou nas imagens, com elementos da natureza e os elementos feito pelo homem (artificiais). **Observe o exemplo.**

Imagens	Elementos da Natureza.	Elementos feitos pelo homem.
A	Solo	Plantação
B		
C		
D		

2º) Observe as imagens e classifique-as como paisagem natural ou artificias.



3º) Diante das suas observações cite 3 exemplos de elementos naturais e 3 exemplos de elementos artificiais do seu município.

Elementos Naturais	
Elementos Artificiais	