







Nombre y Apellido: _____

Ejercicios de Medidas de Longitud

¡Completamos!

1. Escribe que unidad de medida usarías en cada imagen. (12 pts)

	<input type="checkbox"/>	km cm m	<input type="checkbox"/>	
	<input type="checkbox"/>		<input type="checkbox"/>	
	<input type="checkbox"/>		<input type="checkbox"/>	

¡Marcamos!

2. ¿Cuánto miden estas longitudes? Elige y señala con una X (2 pts)

		<input type="checkbox"/> 53m			<input type="checkbox"/> 4m
		<input type="checkbox"/> 53cm		<input type="checkbox"/> 4cm	
		<input type="checkbox"/> 53km		<input type="checkbox"/> 4km	

Nombre y Apellido: _____

¡Completamos!

3. Ordena estas medidas de mayor a menor (4 pts)

62cm

62m

62km

6cm

>

>

>

¡Completamos!

4. ¿Qué medida está representada?, según la flecha indicada en el grafico
(Largo/ancho/alto) (2 pts)

