

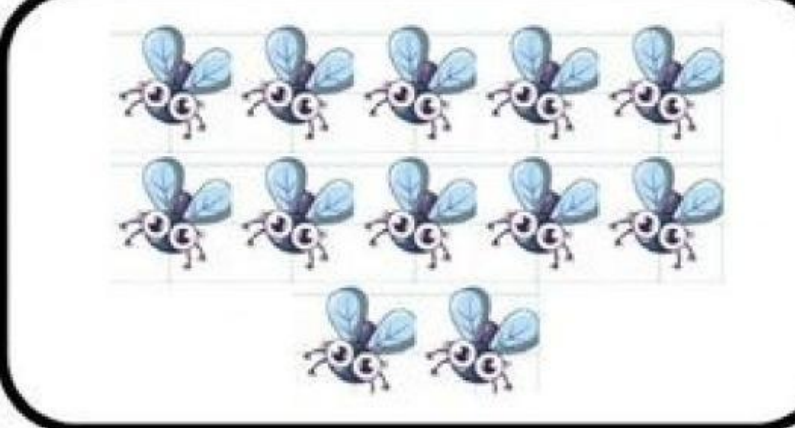


Nombre y Apellido: _____

Decenas y Unidades

¡Completamos!

1. Observa las imágenes y completa cada tablero Posicional con las cantidades correspondientes (6 pts.)

	<table border="1" style="width: 100%; border-collapse: collapse;"> <thead> <tr> <th style="background-color: red; color: white;">Decena</th> <th style="background-color: blue; color: white;">Unidad</th> </tr> </thead> <tbody> <tr> <td style="height: 80px;"></td> <td style="height: 80px;"></td> </tr> </tbody> </table>	Decena	Unidad		
Decena	Unidad				
	<table border="1" style="width: 100%; border-collapse: collapse;"> <thead> <tr> <th style="background-color: red; color: white;">Decena</th> <th style="background-color: blue; color: white;">Unidad</th> </tr> </thead> <tbody> <tr> <td style="height: 80px;"></td> <td style="height: 80px;"></td> </tr> </tbody> </table>	Decena	Unidad		
Decena	Unidad				
	<table border="1" style="width: 100%; border-collapse: collapse;"> <thead> <tr> <th style="background-color: red; color: white;">Decena</th> <th style="background-color: blue; color: white;">Unidad</th> </tr> </thead> <tbody> <tr> <td style="height: 80px;"></td> <td style="height: 80px;"></td> </tr> </tbody> </table>	Decena	Unidad		
Decena	Unidad				

Nombre y Apellido: _____

¡Completamos!

2. Observa cada cuadro y completa según corresponda la descomposición y escribir el número descompuesto (14 pts.)

	d	u
38		
22		
46		
74		
50		
19		
88		



	d	u
	3	1
	6	0
	9	2
	1	6
	7	5
	1	1
	8	6

