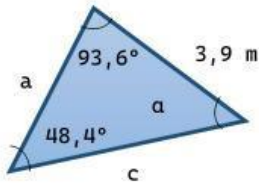


TEOREMA DEL SENO Y DEL COSENO

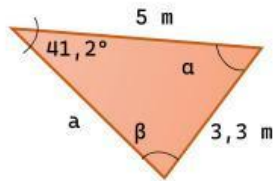


¿Qué teorema aplicaste?

- Seno
- Coseno

El valor de a es:

- 3,9 m
- 3,2 m
- 2,1 m
- 6,4 m
- 5,1 m
- 4,6 m

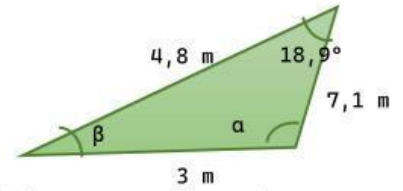


¿Qué teorema aplicaste?

- Seno
- Coseno

El valor de β es:

- 33,2°
- 81,5°
- 86,4 °
- 67,2°
- 91,6°
- 79,2°

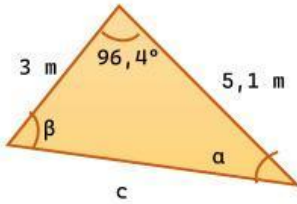


¿Qué teorema aplicaste?

- Seno
- Coseno

El valor de a es:

- 33,2°
- 51,5°
- 36,4 °
- 47,9°
- 31,3°
- 69,2°

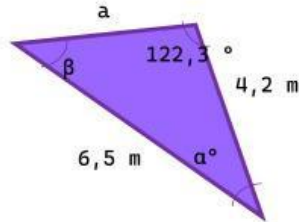


¿Qué teorema aplicaste?

- Seno
- Coseno

El valor de c es:

- 4,9 m
- 3,2 m
- 2,1 m
- 6,2 m
- 5,1 m
- 3,5 m



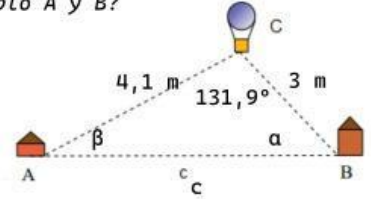
¿Qué teorema aplicaste?

- Seno
- Coseno

El valor de β es:

- 33,0°
- 21,5°
- 10,6 °
- 27,9°
- 20,4°
- 19,2°

¿A qué distancia están situados el pueblo A y B?



¿Qué teorema aplicaste?

- Seno
- Coseno

El valor de la distancia es:

- 4,9 m
- 3,2 m
- 2,1 m
- 6,5 m
- 5,1 m
- 3,5 m

INCIDENCIAS: